



पावर ट्रांसमिशन कारपोरेशन ऑफ उत्तराखण्ड लि०

(उत्तराखण्ड सरकार का उपक्रम)

मानव संसाधन एवं प्रशासनिक विभाग

विद्युत भवन, नजदीक-आई०एस०बी०टी० क्रासिंग, सहारनपुर रोड़, माजरा, देहरादून-248002

दूरभाष नं० 0135-2645249 फैक्स नं० 0135-2645249 email:- hr@ptcul.org

पत्रांक: 1518 / मा०सं०एवंप्र०वि० / पिटकुल / एच-5

दिनांक 13.08.2023

गोपनीय

विषय:- सहायक लेखाकार के पद हेतु विभागीय लिखित परीक्षा के सम्बन्ध में।

अधिकासी अभियन्ता,
सूचना एवं प्रौद्योगिकी,
पिटकुल,
देहरादून।

कृपया दिनांक 13.08.2023 को सम्पन्न सहायक लेखाकार के पद हेतु विभागीय लिखित परीक्षा के प्रश्न पत्रों, उक्त की उत्तर कुंजियां (Answer Keys) एवं उत्तर कुंजियों के सम्बन्ध में सूचना (दिशा-निर्देश) आपको इस आशय के साथ संलग्न कर प्रेषित किये जा रहे हैं कि उक्त प्रश्न पत्रों, उत्तर कुंजियों (Answer Keys) एवं सूचना (दिशा-निर्देश) को कारपोरेशन की वेबसाइट पर आज ही एक अलग लिंक के माध्यम से अपलोड करवाने का कष्ट करें।

संलग्नक: प्रश्न पत्र, उत्तर कुंजियां (Answer Keys)
एवं दिशा-निर्देश

(विवेकानन्द)

उपमुख्य कार्मिक अधिकारी

पत्रांक: / मा०सं०एवंप्र०वि० / पिटकुल / एच-5 दिनांकित।

प्रतिलिपि : अधीक्षण अभियन्ता (सूचना प्रौद्योगिकी), पिटकुल, देहरादून को सूचनार्थ एवं आवश्यक कार्यवाही हेतु प्रेषित।

(विवेकानन्द)

उपमुख्य कार्मिक अधिकारी

जब तक आपको यह प्रश्न पुस्तिका खोलने को न कहा जाए तब तक ना खोलें		
क्रम संख्या	प्रश्न पुस्तिका	प्रश्न पुस्तिका कोड (QUESTION BOOKLET CODE)
विभागीय परीक्षा सहायक लेखाकार वर्ष – 2023	बुक—कीपिंग, एकाउंटेंसी तथा ऑडिटिंग (भाग-1)	001
समय: दो घंटे (2 hours)		पूर्णांक : 100

INSTRUCTIONS

1. परीक्षा प्रारंभ होने के तुरंत बाद, आप इस प्रश्न पुस्तिका की पड़ताल अवश्य कर लें कि इस में कोई बिना छपा, फटा या छूटा हुआ पृष्ठ अथवा प्रश्न आदि न हो। यदि ऐसा है, तो इसे सही प्रश्न पुस्तिका से बदल लें।
 2. कृपया ध्यान रखें कि OMR उत्तर पुस्तिका में, उचित स्थान पर, रोल नंबर प्रश्न पुस्तिका कोड (Question Booklet Code) 001 को, ध्यान से एवं बिना किसी चूक या विसंगति से भरने और कूटबद्ध करने की जिम्मेदारी उम्मीदवार की है। किसी भी प्रकार की चूक/विसंगति की स्थिति में उत्तर पत्रक निरस्त कर दिया जायेगा।
 3. इस प्रश्न पर साथ में दिए गए कोष्ठक में आपको अनुक्रमांक लिखना है। प्रश्न पुस्तिका पर और कुछ न लिखें।
- अनुक्रमांक**
4. इस प्रश्न पुस्तिका में 100 प्रश्न दिए गए हैं। प्रत्येक प्रश्न हिंदी और अंग्रेजी दोनों में छपा है। प्रत्येक प्रश्न में चार प्रत्युत्तर (उत्तर) दिए गए हैं। इनमें से एक प्रत्युत्तर (उत्तर) को चुन लें, जिसे आप उत्तर पत्रक में अंकित करना चाहते हैं। यदि आप को ऐसा लगे कि एक से अधिक प्रत्युत्तर (उत्तर) सही हैं, तो उस प्रत्युत्तर (उत्तर) को अंकित करें जो आपको सर्वोत्तम लगे। प्रत्येक प्रश्न के लिए केवल एक ही प्रत्युत्तर (उत्तर) चुनना है।
 5. सभी प्रश्नों के अंक समान हैं।
 6. इस से पहले कि आप प्रश्न पुस्तिका के विभिन्न प्रश्न के प्रत्युत्तर (उत्तर) उत्तर-पत्रक पर अंकित करना शुरू करें, आपको प्रवेश पत्र के साथ प्रेषित अनुदेशों के अनुसार कुछ विवरण उत्तर-पत्रक में देने हैं।
 7. आप अपने सभी प्रत्युत्तर (उत्तर) को उत्तर-पत्रक में भरने के बाद तथा परीक्षा के समापन पर केवल उत्तर-पत्रक अधीक्षक को सौंप दें। आपको अपने साथ प्रश्न पुस्तिका ले जाने की अनुमति है।
 8. कच्चे काम के लिए पत्रक प्रश्न पुस्तिका के अंत में संलग्न हैं।
 9. गलत उत्तरों के लिए दण्ड:

वस्तुनिष्ठ प्रश्न-पत्रों में उम्मीदवार द्वारा दिए गए गलत उत्तरों के लिए दण्ड दिया जायेगा।

 - (i) प्रत्येक प्रश्न के लिए चार वैकल्पिक उत्तर हैं। उम्मीदवार द्वारा प्रत्येक प्रश्न के लिए दिए गए गलत उत्तर के लिए प्रश्न हेतु नियत किये गए अंको का एक-चौथाई दण्ड के रूप में काटा जायेगा।
 - (ii) यदि कोई उम्मीदवार एक से अधिक उत्तर देता है, तो इसे गलत उत्तर माना जायेगा, यद्यपि दिए गए उत्तरों में से एक उत्तर सही होता है, फिर भी उस प्रश्न के लिए उपरोक्तानुसार ही उसी तरह का दण्ड दिया जायेगा।
 - (iii) यदि उम्मीदवार द्वारा कोई प्रश्न हल नहीं किया जाता है, अर्थात् उम्मीदवार द्वारा उत्तर नहीं दिया जाता है, तो उस प्रश्न के लिए कोई दण्ड नहीं दिया जायेगा।

बुक-कीपिंग, एकाउंटेंसी तथा आडिटिंग (भाग-1)
Book Keeping, Accountancy and Auditing (Part – 1)

1. बैलेंस शीट के लिए डेबिट और क्रेडिट के नियम कहते हैं कि
The rules of debit and credit for a balance sheet says that _____.
- (A) परिसंपत्ति और देयता खातों में कमी को क्रेडिट लेनदेन के रूप में दर्ज किया जाता है।/
A decrease in asset and liability accounts is recorded as a credit transaction
 - (B) संपत्ति और मालिक के इक्विटी खातों में वृद्धि को डेबिट लेनदेन के रूप में दर्ज किया जाता है।/
An increase in asset and owner's equity accounts is recorded as a debit transaction
 - (C) देनदारी और मालिकों के इक्विटी खातों में कमी को क्रेडिट लेनदेन के रूप में दर्ज किया जाता है।/
A decrease in liability and owners' equity accounts is recorded as a credit transaction
 - (D) संपत्ति, देनदारी और मालिकों के इक्विटी खातों में वृद्धि को डेबिट लेनदेन के रूप में दर्ज किया जाता है।/
An increase in asset, liability and owners' equity accounts is recorded as a debit transaction
2. कम्पनी अधिनियम के अनुसार कम्पनी के बहीखातों का लेखांकन नियमानुसार किया जाना चाहिए:
According to the Companies Act, the books of accounts of a company are required to be maintained on:
- (A) अर्जित प्रणाली और डबल एन्ट्री अनुसार (Accrual basis and double entry system)
 - (B) अर्जित प्रणाली अथवा नकद प्रणाली और डबल एन्ट्री अनुसार (Accrual basis or cash basis and on double entry system)
 - (C) केवल अर्जित प्रणाली (Accrual basis only)
 - (D) इनमें से कोई नहीं (None of these)
3. कम्पनी B के खाते में कम्पनी D से 30,000 रुपये प्राप्त होने थे। 26 फरवरी को कम्पनी D ने कम्पनी B को 21,000 रुपये का आंशिक भुगतान किया। इस लेनदेन को रिकॉर्ड करने के लिए कम्पनी B द्वारा की गई जर्नल प्रविष्टि है।/
Company B had Rs.30,000 account receivable from Company D. On 26th February, Company D made a partial payment of Rs. 21,000 to Company B. The journal entry made by Company B to record this transaction is _____.
- (A) 21,000 रुपये का प्राप्य खाते में क्रेडिट / A credit to the accounts receivable account of Rs. 21,000
 - (B) 21,000 रुपये का नकद खाते में क्रेडिट / A credit to the cash account of Rs. 21,000
 - (C) 21,000 रुपये का नकद खाते में डेबिट / A debit to the cash account of Rs. 21,000
 - (D) 21,000 रुपये का प्राप्य खाते में डेबिट / A debit to the accounts receivable account of Rs. 21,000

4. शेयर ट्रेडिंग में लाभ से होने वाली आय को इस मद के अंतर्गत लिया जाता है ?
Income from gain in share trading is charged under the head?
- (A) वेतन (Salary)
(B) अन्य साधनों से आय (Income from other sources)
(C) पूंजीगत लाभ (Capital gains)
(D) इनमें से कोई नहीं (None of these)
5. कौन सा वित्तीय विवरण सबसे पहले तैयार किया जाता है? / Which of the financial statements gets prepared first?
- (A) नकदी प्रवाह का विवरण / Statement of cash flows
(B) प्रतिधारित आय का विवरण / Statement of retained earnings
(C) बैलेंस शीट / Balance sheet
(D) आय विवरण / Income statement
6. ऐसी दीर्घकालिक संपत्तियाँ जिनका कोई भौतिक अस्तित्व नहीं है लेकिन वे अधिकार हैं जिनका मूल्य है उन्हें के रूप में जाना जाता है। / The long-term assets that have no physical existence but are rights that have value are known as _____.
- (A) निवेश / Investments
(B) अमूर्त सम्पत्ति / Intangible assets
(C) अचल सम्पत्ति / Fixed assets
(D) इनमें से कोई नहीं / None of these
7. 58 वर्ष के व्यक्ति के लिए धारा 80सी के तहत अधिकतम छूट है:-
Maximum Exemption u/s 80C for person of 58 years is :
- (A) 150000
(B) वेतन आय (1,75,000)
(C) गृह सम्पत्ति से आय (2,00,000)
(D) इनमें से कोई नहीं (None of these)
8. वे सम्पत्तियाँ जिन्हें एक वर्ष के भीतर नकदी में परिवर्तित किया जा सकता है, कहलाती हैं। / The assets that can be converted into cash within a year are known as _____.
- (A) निवेश / Investments
(B) अमूर्त सम्पत्ति / Intangible assets
(C) वर्तमान सम्पत्ति / Current assets
(D) इनमें से कोई नहीं / None of these

9. विज्ञापन ठेकेदार के भुगतान से आयकर कटौती किस दर से होगी ?
What is the TDS amount on a bill of Rs.1,00,000/- raised by resident individual advertising contractor?
- (A) रू0 10,000
(B) रू0 20,000
(C) रू0 5,000
(D) रू0 1,000
10. वे ऋण जो एक वर्ष के भीतर चुकाए जाते हैं, कहलाते हैं।/ The debts which are repaid within a year are known as _____.
(A) आकस्मिक देयताएं/ Contingent liabilities
(B) निश्चित देनदारियाँ/ Fixed liabilities
(C) वर्तमान देनदारियाँ/ Current liabilities
(D) इनमें से कोई नहीं/ None of these
11. एक 58 वर्षीय व्यक्ति को आयकर अधिनियम की धारा 80डी के तहत अधिकतम आयकर छूट क्या मिलेगी?
Under Section 80 D of the Income Tax Act what is maximum deduction is admissible for a person of 58 years of age?
- (A) रू0 30000
(B) रू0 25000
(C) रू0 50000
(D) इनमें से कोई नहीं (None of these)
12. विधि अनुसार कम्पनी के बहीखातों को निम्न वर्ष तक परिरक्षित करना आवश्यक है:
As per law, the books of accounts of a company should be preserved for a period of:
- (A) 08 वर्ष (08 years)
(B) 05 वर्ष (05 years)
(C) 10 वर्ष (10 years)
(D) इनमें से कोई नहीं (None of these)
13. किसी निश्चित अवधि के दौरान बिक्री आय (क्रेडिट और नकद दोनों) को कहा जाता है।/ The sales income (both credit and cash) during a given period is called _____.
(A) खरीद रिटर्न/ Purchase returns
(B) टर्नओवर/ Turnover
(C) बिक्री रिटर्न/ Sales returns
(D) इनमें से कोई नहीं/ None of these

14. वह खाता जो व्यय लाभ और हानि को रिकॉर्ड करता है, उसे कहा जाता है। / The account that records expenses, gains and losses is called _____.
(A) नाममात्र खाता / Nominal account
(B) व्यक्तिगत खाता / Personal account
(C) वास्तविक खाता / Real account
(D) इनमें से कोई नहीं / None of these
15. जर्नल से खाता बही में सभी लेनदेन दर्ज करने की प्रक्रिया को कहा जाता है। / The process of entering all transactions from the journal to the ledger is called _____.
(A) लेखांकन / Accounting
(B) पोस्टिंग / Posting
(C) एंट्री / Entry
(D) इनमें से कोई नहीं / None of these
16. किस सिद्धान्त के अन्तर्गत केवल व्यवसाय को प्रभावित करने वाली महत्वपूर्ण लेन-देन को ही लेखांकन होना चाहिए।
Only the significant events which affect the business must be recorded as per the principle of
(A) अर्जित (Accrual)
(B) चालू व्यवसाय (Going concern)
(C) सारता (Materiality)
(D) इनमें से कोई नहीं (None of these)
17. एक विवरण है जो किसी भी समय किसी कम्पनी की वित्तीय स्थिति को दर्शाता है। / The _____ is a statement that shows the financial status of a company at any given time.
(A) तुलन पत्र / Balance sheet
(B) ट्रेडिंग खाता / Trading account
(C) लाभ और हानि विवरण / Profit and loss statement
(D) ट्रायल बैलेंस / Trial Balance

18. वह अनुपात जो किसी फर्म की उसके अल्पकालिक संसाधनों से अल्पकालिक दायित्वों को पूरा करने की क्षमता को संदर्भित करता है उसे कहा जाता है। / The ratio that refers to a firm's ability to meet its short term obligations out of its short term resources is called _____.
- (A) लाभप्रदता अनुपात / Profitability ratio
 (B) गतिविधि अनुपात / Activity ratio
 (C) लीवरेज अनुपात / Leverage ratio
 (D) तरलता अनुपात / Liquidity ratio
19. सेक्शन जनरल-1 में निम्न व्यवहारों का लेखांकन किया जाता है :-
 Following transaction are accounted for in Sectional Journal-1:-
- (A) वह सभी आहरण जिसमें भुगतान न कर केवल समायोजन किया जाता है
 (All adjustment transactions other than cash/bank payments)
 (B) ठेकेदारों के भुगतान (Payment of contractors)
 (C) कर्मचारी को अधिष्ठान सम्बन्धी भुगतान
 (Payment of employees against establishment claims)
 (D) इनमें से कोई नहीं (None of these)
20. निम्न में से कौन सा सम्पत्ति पक्ष नहीं है ?
 Which one of the following is not a fixed asset?
- (A) भवन (Building)
 (B) कारखाना (Plant)
 (C) बैंक अधिशेष (Bank balance)
 (D) फर्नीचर (Furniture)
21. वर्तमान अनुपात / Current Ratio = _____.
- (A) चालू सम्पत्तियाँ / चालू दायित्व / Current assets / Current liabilities
 (B) अचल सम्पत्ति / वर्तमान देनदारियाँ / Fixed assets / Current liabilities
 (C) ऋण / वर्तमान सम्पत्ति / Debt / Current assets
 (D) ऋण / इक्विटी / Debt / Equity

22. निम्न में से किस खाते का शेष प्रायः डेबिट होता है ?

Which of the following account usually has a debit balance?

- (A) ठेकेदार को अग्रिम खाता (Advance to contractors a/c)
- (B) ऊर्जा विक्रय खाता (Energy Sales A/c)
- (C) व्यय के लिए प्रावधान (Provisions for expenses)
- (D) इनमें से कोई नहीं (None of these)

23. बहीखाता पद्धति में मुख्य रूप से लेखांकन प्रक्रिया का भाग शामिल होता है।/ Bookkeeping mainly consists of part of the accounting process.

- (A) लेखा पुस्तकों का अंकक्षण करना / Auditing the books of accounts
- (B) वित्तीय जानकारी रिकॉर्ड करना / Recording financial information
- (C) वित्तीय विवरण तैयार करना / Preparing financial statements
- (D) विश्लेषण / Analysing

24. डीजल जनरेटर सेट क्रय हेतु निम्नलिखित डाटा का अवलोकन करें:

Consider the following data pertaining to purchase of a diesel generator set:

डीजल जनरेटर सेट की लागत (Cost of diesel generator set) = Rs. 7,00,000

जनरेटर को स्थान तक लाने में दिया गया मालभाडा (Transport charges paid to bring the generator to our location) = Rs. 7,000

डीजल जनरेटर सेट को स्थापित करने हेतु अभियन्ता को दिया गया व्यय (Installation charges paid to the engineer for diesel generator set) = Rs. 13,000

राशि जिसको कि सम्पत्ति मद में लेखांकन किया जाना है:

The amount to be capitalized is:

- (A) ₹0 7,13,000
- (B) ₹0 7,20,000
- (C) ₹0 7,07,000
- (D) इनमें से कोई नहीं (None of these)

25. राजस्व को आमतौर पर उस समय अर्जित माना जाता है जब – / Revenue is generally recognized as being earned at the point of time when -
- (A) उत्पादन पूरा हो गया है / Production is completed
 - (B) बिक्री सम्पादित हो चुकी हो / Sales is effected
 - (C) नकद प्राप्त हुआ है / Cash is received
 - (D) इनमें से कोई नहीं (None of these)
26. कॉपीराइट, पेटेंट और ट्रेडमार्क इसके उदाहरण हैं। / Copyrights, Patents and Trademarks are examples of
- (A) वर्तमान सम्पत्ति / Current assets
 - (B) अचल सम्पत्ति / Fixed assets
 - (C) अमूर्त सम्पत्ति / Intangible assets
 - (D) निवेश / Investments
27. शुद्ध लाभ की गणना निम्नलिखित में से किस खाते में की जाती है? Net profit is calculated in which of the following account?
- (A) लाभ और हानि खाता / Profit and loss account
 - (B) बैलेंस शीट / Balance sheet
 - (C) ट्रायल बैलेंस / Trial balance
 - (D) ट्रेडिंग खाता / Trading account
28. वस्तुओं की बिक्री योग्य स्थिति में रखने का शुल्क लिया जाना चाहिए / The charges of placing commodities into a saleable condition should be charged to
- (A) ट्रेडिंग खाता / Trading account
 - (B) लाभ और हानि खाता / Profit and loss account
 - (C) बैलेंस शीट / Balance Sheet
 - (D) इनमें से कोई नहीं / None of these

29. आपूर्तिकर्ताओं के व्यक्तिगत खाते में देखा जाता है।/ Suppliers personal a/c are seen in the
- बिक्री खाता / Sales Ledger
 - नाममात्र खाता बही / Nominal ledger
 - खरीद बही / Purchases Ledger
 - जनरल बही / General Ledger
30. ₹ 60,000 की एक सम्पत्ति क्रय की गयी जिस पर 10 प्रतिशत प्रतिवर्ष की दर से कमगत ह्रास पद्धति का प्रावधान किया गया है। 3 वर्षों की समाप्ति पर सम्पत्ति की ह्रासित मूल्य क्या है?
An asset was purchased for Rs. 60,000 on which depreciation provided @ 10% on reducing balance method. The WDV of the asset at the end of 3 years is:
- ₹ 48,600
 - ₹ 43,740
 - ₹ 39,366
 - इनमें से कोई नहीं (None of these)
31. निम्न में से कौन व्यक्तिगत खाते में चिन्हित होता है ?
Which one of the following is an example of personal account ?
- मशीनरी खाता (Machinery)
 - देनदार खाता (Creditor)
 - किराया खाता (Rent)
 - इनमें से कोई नहीं (None of these)
32. स्वैच्छिक सेवानिवृत्ति पर पेंशन प्राप्त करने के लिये कम से कम कितनी सेवा अवधि होनी चाहिए?
What is the minimum service period required to claim pension on voluntary retirement?
- कम से कम 25 वर्ष (Minimum 25 years)
 - कम से कम 05 वर्ष (Minimum 05 years)
 - कम से कम 33 वर्ष एवं 60 वर्ष की आयु, जो भी पहले हो
(Minimum 33 years or 60 years of age, whichever is earlier)
 - इनमें से कोई नहीं (None of these)

33. छूट प्राप्त है / Discounts received are -
- (A) सामान खरीदने वाले को विक्रेता द्वारा छूट दी गयी / Buyer of goods granted discount by seller
 - (B) नकद प्राप्त होने पर की गयी कटौती / Deducted when we receive cash
 - (C) हमारे द्वारा तब दिया जाता है जब हम उधार पर सामान बेचते हैं / Given by us when we sell goods on credit
 - (D) इनमें से कोई नहीं / None of these
34. सबसे पहले बिक्री चालान दर्ज किये जाते हैं / Sales invoices are first entered in -
- (A) कैश बुक / The Cash Book
 - (B) खरीदारी जर्नल / The Purchases Journal
 - (C) सेल्स जर्नल / The Sales Journal
 - (D) बिक्री खाता / The Sales Account
35. खरीद जर्नल में दर्ज किये गये हैं / Entered in the Purchases Journal are -
- (A) छूट प्राप्त हुई / Discounts received
 - (B) खरीद चालान / Purchases invoices
 - (C) आपूर्तिकर्ताओं को भुगतान / Payments to suppliers
 - (D) व्यापार छूट / Trade discounts
36. लेखांकन के दृष्टिकोण से हानि निम्नलिखित में से किससे सम्बन्धित है ?
From the accounting point of view, Loss means?
- (A) स्वामी की पूंजी में कमी (Decrease in owner's equity)
 - (B) सम्पत्ति में कमी (Decrease in assets)
 - (C) दायित्व में कमी (Decrease in liability)
 - (D) इनमें से कोई नहीं (None of these)

37. वित्त हस्तपुस्तिका भाग-2 का प्रस्तर संख्या- FR-53 सम्बन्धित है ?
FR-53 (Chapter – X) of Financial Hand Book Volume – II (Part II to IV) pertains to?
- (A) वेतन (Pay)
(B) छुट्टी (Leave)
(C) यात्रा भत्ता (Travelling Allowance)
(D) इनमें से कोई नहीं (None of these)
38. बैलेंस शीट की तारीख पर, मूल्यह्रास खाते के लिए संचित प्रावधान पर शेष राशि है।/ At the balance sheet date, the balance on the Accumulated Provision for Depreciation Account is
- (A) बस बैलेंस शीट में परिसम्पत्ति से काट लिया गया/ Simply deducted from the asset in the Balance Sheet
(B) लाभ और हानि खाते में स्थानांतरित किया गया/ Transferred to Profit and Loss Account
(C) सम्पत्ति खाते में स्थानांतरित कर दिया गया/ Transferred to the Asset Account
(D) मूल्यह्रास खाते में स्थानांतरित/ Transferred to Depreciation Account
39. किसी कम्पनी की ₹0 2,00,000/- की शाख (Goodwill) सम्पत्ति है।
Goodwill of Rs. 2,00,000/- of a company is asset.
- (A) अचल सम्पत्ति / Fixed Asset
(B) वर्तमान मूल्य / Current Asset
(C) अमूर्त सम्पत्ति / Intangible Asset
(D) इनमें से कोई नहीं/ None of these
40. यदि ट्रायल बैलेंस का योग सहमत नहीं है, तो अंतर दर्ज किया जाना चाहिए/ If a trial balance totals do not agree, the difference must be entered in
- (A) लाभ और हानि खाता / The Profit and Loss Account
(B) नाममात्र खाता / A Nominal Account
(C) पूंजी खाता / The Capital Account
(D) उर्चति खाता / A Suspense Account
41. खुदरा रोकड बही (Petty Cash Book) का अंतिम शेष क्या है ?
The Closing Balance of the Petty Cash Book is:
- (A) एक व्यय / An Expense
(B) एक परिसंपत्ति / An Asset
(C) एक आय / An Income
(D) इनमें से कोई नहीं / None of these

42. ए0बी0सी0 लिमिटेड से सम्बन्धित वित्तीय वर्ष 2022-23 के निम्नलिखित डाटा का अवलोकन करें:
Consider the following data pertaining to ABC Ltd. For the FY 2022-23:
देनदार से नकद वसूली (Cash received from Debtors) = Rs. 90,000
देनदार से शेष राशि में कमी (Decrease in balance of sundry debtors) = Rs. 30,000
ए0बी0सी0 लिमिटेड केवल उधार विक्रय करती है। वित्तीय वर्ष 2022-23 में विक्रय की राशि निम्न थी:
ABC Ltd. Sells goods only on credit. The amount of sales made during FY 2022-23 was:
- (A) रू0 60,000
(B) रू0 1,20,000
(C) रू0 30,000
(D) इनमें से कोई नहीं (None of these)
43. पिटकुल की सामान्य भविष्य निधि कोष का प्रावधान तथा लेखांकन किसके द्वारा किया जाता है ?
General Provident Fund (GPF) money & accounts of PTCUL is managed by whom?
- (A) क्षेत्रीय कर्मचारी भविष्य निधि कोष आयोग
(Employee's Regional Provident Fund Commission)
(B) उत्तराखण्ड पावर कारपोरेशन लि0 कर्मचारी न्यास (सामान्य भविष्य निधि)
{UPCL Employees Trust (GPF Trust)}
(C) केन्द्रीय वेतन एवं पेंशन भुगतान कार्यालय
(Central Salary & Pension Payment Office)
(D) इनमें से कोई नहीं (None of these)
44. सेक्शन 194जे के अनुसार व्यवसायिक ठेकेदारों के बीजकों से काटे जाने वाले आयकर की वर्तमान अनुमानित दर क्या है?
What is rate of deduction of tax at source on the bills of Professionals under Section 194J?
- (A) 10 प्रतिशत (10%)
(B) 4 प्रतिशत (4%)
(C) 5 प्रतिशत (5%)
(D) इनमें से कोई नहीं (None of these)

45. ऐ0बी0सी0 लिमिटेड से रू0 1,00,000/- प्राप्त हुए हैं, इस राशि को पूर्व में अशोध्य देनदारी (bad debt) होने के कारण खारिज (write off) कर दिए गया था। इस राशि को किस खाते में जमा write (Credit) करना चाहिए ?
- Rs. 1,00,000/- received from M/s ABC Limited, whose account was earlier written off as bad debt, should be credited to:
- (A) विक्रय खाता / Sales Account
 - (B) अशोध्य देनदारी की वसूली खाता / Bad Debts Recovered Account
 - (C) क्रय खाता / Purchase Account
 - (D) इनमें से कोई नहीं / None of these
46. अर्बन लिमिटेड ने 31.03.2023 को समाप्त वित्त वर्ष के लिए वेतन का भुगतान 5,25,000 रुपये किया, जबकि 31.03.2023 को बकाया वेतन 75,000 रुपये है। लाभ एवं हानि खाते में डेबिट की जाने वाली कुल राशि है:
- Urban Ltd paid salaries for the FY ended 31-03-2023 amounting to Rs 5,25,000 while salary outstanding as on 31-03-2023 is Rs 75,000. The total amount to be debited to the Profit and loss account is:
- (A) रू0 5,25,000
 - (B) रू0 4,50,000
 - (C) रू0 6,00,000
 - (D) इनमें से कोई नहीं (None of these)
47. निम्नलिखित में से कौन सा चालू दायित्व नहीं है / Which of the following is not a current liability?
- (A) अधिकोष अधिविकर्ष / Bank Overdraft
 - (B) देय बिल / Bills Payable
 - (C) बकाया व्यय / Outstanding Expenses
 - (D) इक्विटी शेयर पूंजी / Equity Share Capital
48. कौन सा भारतीय लेखा मानक आकस्मिक दायित्व से सम्बन्धित है / Which Indian Accounting Standard (Ind AS) deals with contingent liability ?
- (A) इंड ऐ0एस0-2 / Ind AS - 2
 - (B) इंड ऐ0एस0-9 / Ind AS - 9
 - (C) इंड ऐ0एस0-37 / Ind AS - 37
 - (D) इनमें से कोई नहीं / None of these

49. यदि औसत स्टॉक 12,000 रुपये है, समापन स्टॉक शुरूआती स्टॉक से 3,000 रुपये अधिक है तो समापन स्टॉक का मूल्य होगा/ If average stock is Rs. 12,000, closing stock is Rs. 3,000 more than opening stock then the value of the closing stock will be
- (A) रुपये/ Rs. 12,000
 (B) रुपये/ Rs. 24,000
 (C) रुपये/ Rs. 10,500
 (D) रुपये/ Rs. 13,500
50. कार्यालय भवन पर सफेदी का व्यय, निम्नलिखित में से किस श्रेणी में आयेगा ?
 Office Building White washing expenses are:
- (A) राजस्व व्यय/ Revenue Expenditure
 (B) पूंजीगत व्यय/ Capital Expenditure
 (C) स्थगित राजस्व व्यय/ Deferred Revenue Expenditure
 (D) इनमें से कोई नहीं/ None of these
51. लेखांकन में इन्वेन्ट्री मूल्यांकन की विधि का सबसे अधिक उपयोग किया जाता है/ The method of inventory valuation most widely used in Accounting is
- (A) लागत मूल्य/ Cost price
 (B) बाजार मूल्य/ Market price
 (C) लागत या बाजार मूल्य से अधिक/ The higher of cost or market price
 (D) लागत या बाजार मूल्य से कम/ The lower of cost or market price
52. अन्तिम रहतिया यदि तलपट का भाग हो तो उसे किसमें दर्शाया जायेगा ?
 Closing inventory which is shown in trial balance should be taken to:
- (A) चिट्ठा (Balance Sheet)
 (B) लाभ एवं हानि खाता (Profit & Loss Account)
 (C) रोकड़ बही (Cashbook)
 (D) इनमें से कोई नहीं (None of these)

53. एक पब्लिक लिमिटेड कम्पनी में निदेशकों की न्यूनतम संख्या होती है/ The minimum number of directors in a public limited company is
- (A) 1
(B) 2
(C) 5
(D) 3
54. एक साझेदारी फर्म से धन नहीं जुटा सकती/ A partnership firm cannot raise funds by issue of _____
- (A) बैंक के ऋण/ Bank loans
(B) भागीदार ऋण/ Partners loans
(C) डिबेंचर/ Debentures
(D) भागीदार पूंजी/ Partners capitals
55. निम्न में से कौन एक प्रकार का फण्ड का साधन नहीं है ?
Which of the following is not a source of fund?
- (A) अतिरिक्त ऋण (Additional loans)
(B) देनदारियों का भुगतान (Discharging liabilities)
(C) सम्पत्ति की बिक्री (Disposing assets)
(D) इनमें से कोई नहीं (None of these)
56. किसी व्यवसायिक लेनदेन के लिखित साक्ष्य को कहा जाता है/ Any written evidence in support of a business transaction is called
- (A) जर्नल/ Journal
(B) खाता बही/ Ledger
(C) बही खाता पोस्टिंग/ Ledger posting
(D) वाउचर/ Voucher
57. कौन सी लेखांकन अवधारणा मूल्यांकन मानदण्डों को पूरा करती है/ Which accounting concept satisfy the valuation criteria?
- (A) चालू व्यवसाय, प्राप्ति, लागत/ Going concern, Realisation, Cost
(B) चालू व्यवसाय, लागत, दोहरा पहलू / Going concern, Cost, Dual aspect
(C) लागत, दोहरा पहलू, रूढ़िवादिता/ Cost, Dual aspect, Conservatism
(D) प्राप्ति, रूढ़िवादिता, चालू व्यवसाय/ Realisation, Conservatism, Going concern.

58. ऋणपत्र पर ब्याज की गणना किस राशि पर की जाती है ?
Interest on Debentures is calculated on
(A) निर्गमित मूल्य पर/ It's Issue Price
(B) बाजार मूल्य पर/ It's Market Price
(C) अंकित मूल्य पर/ It's Face Value
(D) इनमें से कोई नहीं/ None of these
59. मशीनरी के निर्माण एवं स्थापना (erection and commissioning) हेतु ₹ 20,000/- को भुगतान को कहाँ डेबिट किया जाना चाहिए ?
Rs. 20,000/- paid for erection and commissioning of machinery should be debited to:
(A) मरम्मत खाता / Repair Account
(B) देनदार (ग्राहक) खाता / Customer Account
(C) मशीन खाता / Machinery Account
(D) इनमें से कोई नहीं / None of these
60. कौन सा वित्तीय विवरण लेखांकन समीकरण (account equation) की तरह निर्मित होता है ?
Which financial statement represents the accounting equation ?
(A) तुलन पत्र / Balance Sheet
(B) लाभ एवं हानि का विवरण / Statement of Profit and Loss
(C) नकद प्रवाह विवरण / Statement of Cash Flows
(D) इनमें से कोई नहीं / None of these
61. भवन की मरम्मत हेतु व्यय भवन खाता में ऋणी दर्शाया जाना किस प्रकार की गलती है ?
Debit of expenses of repair of building to buildings account is an example of:
(A) सैद्धान्तिक त्रुटियाँ (Error of Principle)
(B) छूट जाने वाली त्रुटियाँ (Error of omission)
(C) कमीशन की त्रुटियाँ (Error of commission)
(D) इनमें से कोई नहीं (None of these)

62. यदि एक राशि गलत खाते में पोस्ट हो गई है अथवा खाते के गलत पक्ष में लिख दी गई है, तो इसे किस प्रकार की त्रुटी कहा जाता है ?

If the amount is posted in wrong account or is written in the wrong side of the account, it is called:

- (A) लोप अशुद्धि / Error of Omission
- (B) क्षतिपूर्ति अशुद्धि / Compensation Error
- (C) लेख अशुद्धि / Error of Commission
- (D) इनमें से कोई नहीं / None of these

63. पीडीएफ का तात्पर्य है ?

What is the meaning of P.D.F. ?

- (A) ऊर्जा विकास निधि (Power Development Fund)
- (B) निजी विकास निधि (Private Development Fund)
- (C) ऊर्जा के विकास के लिए वित्तीय योजना (Power Development Finance)
- (D) इनमें से कोई नहीं (None of these)

64. एक व्यापारी ने 75,500 रुपये की बिक्री की है जिसमें से नकद बिक्री की राशि 25,500 रुपये है। उन्होंने 31-03-2023 को 50,000 रुपये पर व्यापार प्राप्तियाँ दिखाई। उनके द्वारा किस अवधारणा का अनुसरण किया जाता है ? / A trader has made a sale of Rs 75,500 out of which cash sales amounted to Rs 25,500. He showed trade receivables as on 31-3-2023 at Rs 50,000. Which concept is followed by him?

- (A) चालू व्यवसाय / Going concern
- (B) लागत / Cost
- (C) एककाल / Accrual
- (D) धन माप / Money measurement

65. संयंत्र और मशीनरी के नवीनीकरण पर रु० 40 करोड़ का व्यय, निम्नलिखित में से किस श्रेणी में आयेगा ?
Rs. 40 Crore spent on Renovation of Plant and Machinery is:

- (A) राजस्व व्यय / Revenue Expenditure
- (B) पूंजीगत व्यय / Capital Expenditure
- (C) स्थगित राजस्व व्यय / Deferred Revenue Expenditure
- (D) उपरोक्त में से कोई नहीं / None of the above

66. अचल सम्पत्तियाँ व्यवसाय द्वारा के लिए रखी जाती हैं।/ Fixed assets are held by business for ____.
- (A) नकदी में परिवर्तित करने/ Converting into cash
 - (B) राजस्व उत्पन्न करने/ Generating revenue
 - (C) पुनः विक्रय/ Resale
 - (D) इनमें से कोई नहीं/ None of these
67. लेजर तैयार हो जाने के बाद, अगला कदम है:
After preparation of Ledgers, the next step is the preparation of:
- (A) तलपट/ Trail Balance
 - (B) तुलनपत्र/ Balance Sheet
 - (C) लाभ एवं हानि का विवरण/ Statement of Profit and Loss
 - (D) इनमें से कोई नहीं/ None of these
68. सुप्रीम इलेक्ट्रिसिटी जनरेशन लिमिटेड वर्ष दर वर्ष अपनी मशीनों की मूल्यहास के लिए ह्रासित मूल्य प्रणाली (Written Down Value/WDV) का अनुसरण करता है, जिस का कारण:
Supreme Electricity Generation Limited follows the Written Down Value (WDV) method of depreciation machinery year after year due to:
- (A) तुलनीयता का सिद्धांत है/ Comparability Principle
 - (B) स्थिरता का सिद्धांत है/ Consistency Principle
 - (C) सुविधा का सिद्धांत है/ Convenience Principle
 - (D) इनमें से कोई नहीं/ None of these.
69. निम्नलिखित में से कौन चालू देनदारी के अन्तर्गत आता है ?
Which of the following is a Current liability :
- (A) नकद (Cash)
 - (B) बकाया व्यय (Outstanding expenses)
 - (C) देनदार (Debtors)
 - (D) इनमें से कोई नहीं (None of these)

70. शुद्ध लाभ की गणना निम्नलिखित में से किस खाते में की जाती है ?/ Net profit is calculated in which of the following account?
- (A) लाभ और हानि खाता / Profit and loss account
 - (B) बैलेंस शीट / Balance sheet
 - (C) ट्रायल बैलेंस / Trial balance
 - (D) ट्रेडिंग खाता / Trading account
71. यदि 'कार्य प्रगति पर' (Work in Progress) का अंतिम शेष त्रुटिवश कम लगाया गया हो, तो: Understatement of Closing Work in Progress in a period will:
- (A) शुद्ध लाभ की राशि कम हो जाएगी / Understate net income in that period.
 - (B) उत्पादित माल की लागत में कम हो जाएगी / Understate Cost of goods manufactured.
 - (C) चालू परिसंपत्तियां बढ़ जाएंगी / Overstate Current Assets.
 - (D) उपरोक्त में से कोई नहीं / None of the above
72. ईडीएलआई (EDLI) का पूर्ण रूप क्या है ? What is the full form of EDLI ?
- (A) इक्विटी डीलिंग लाइक इंशरेंस / Equity Dealings Like Insurance
 - (B) एम्पलाइज डिपॉजिट लिंकड इश्योरेंस / Employees Deposit Linked Insurance
 - (C) एम्पलाइज डीलिंग लॉन्ग इंस्ट्रुमेंट्स / Employees Dealing Long Instruments
 - (D) इनमें से कोई नहीं / None of these
73. सकल लाभ निम्न में से किस के बराबर होता है ? Gross profit is equal to:
- (A) कुल लाभ – व्यय (Net profit – Expenses)
 - (B) बिक्री – अन्तिम रहतिया + क्रय (Sales – Closing Stock + Purchases)
 - (C) बिक्री – बिक्री की लागत (Sales – Cost of Goods Sold)
 - (D) इनमें से कोई नहीं (None of these)

74. मुद्रा स्फीति की अवस्था में अन्तिम रहतिया के मूल्यांकन हेतु फीफो प्रणाली का प्रयोग करने पर Under inflationary conditions, FIFO method of inventory valuation will lead to:
- (A) अधिक लाभ होगा (Higher profits)
 - (B) कम लाभ होगा (Lower profits)
 - (C) लाभ में किसी प्रकार का अंतर नहीं पड़ेगा (will make no difference to profits)
 - (D) इनमें से कोई नहीं (None of the above)
75. डिबेंचर जारी करने पर होने वाली हानि को इस प्रकार माना जाता है।/ Loss on issue of debentures is treated as -
- (A) अमूर्त सम्पत्ति / Intangible Asset
 - (B) वर्तमान सम्पत्ति / Current Asset
 - (C) वर्तमान दायित्व / Current Liability
 - (D) विविध व्यय / Miscellaneous Expenditure
76. सभी खर्चों और हानियों को डेबिट करना और सभी आय और लाभों को क्रेडिट करना, किस से सम्बन्धित है—/ The rule debit all expenses and losses and credit all income and gains relates to -
- (A) नाममात्र खाता / Nominal account
 - (B) वास्तविक खाता / Real account
 - (C) व्यक्तिगत खाता / Personal Account
 - (D) उपरोक्त सभी / Above all
77. मैसर्स शाम एंटरप्राइजेज ने 01 नवम्बर 2022 को 20,000/- का फर्नीचर खरीदा। नीति के अनुसार, कम्पनी आनुपातिक आधार पर 10 प्रतिशत की दर से मूल्यह्रास लेती है। वित्त वर्ष 2022-23 के लिए उक्त फर्नीचर पर मूल्यह्रास क्या होगा ?/ M/s Sham Enterprises purchased Furniture worth Rs 20,000/- on 1st November 2022. AS per policy, the company charges depreciation @ 10% on prorate basis. What will be the depreciation on the said furniture for FY 2022-23 ?
- (A) रुपये / Rs.20,000/-
 - (B) रुपये / Rs.10,000/-
 - (C) रुपये / Rs. 8,333/-
 - (D) इनमें से कोई नहीं / None of these

78. निम्न में से कौन सा कथन गलत है ?

Which of the following statement is false?

- (A) कैशबुक के अनुसार क्रेडिट शेष धन की उपलब्धता दर्शाता है
(Credit balance as per cashbook means favourable balance)
- (B) कैशबुक के अनुसार डेबिट शेष धन की उपलब्धता दर्शाता है
(Debit balance as per cashbook indicates favourable balance)
- (C) पासबुक में डेबिट शेष का अर्थ ओवरड्राफ्ट होता है
(Debit balance as per passbook means overdraft balance)
- (D) इनमें से कोई नहीं (None of these)

79. इंडियन लेखा मानक (इंड ऐ0एस0) 1 निम्नलिखित में से किससे सम्बन्धित है ?

Indian Accounting Standard (Ind AS) 1 is related to which of following:

- (A) वित्तीय विवरणों की प्रस्तुति / Presentation of Financial Statements
- (B) आय कर / Income Tax
- (C) नकद प्रवाह विवरण / Statement of Cash Flows
- (D) इनमें से कोई नहीं / None of these

80. यदि:

अंतिम रहतिया—	रु0 5,500 /—
फर्नीचर—	रु0 2,500 /—
नकद शेष—	रु0 1,800 /—
लेनदार (Creditors)	रु0 2,500 /—

तो, फर्म में स्वामी की पूंजी कितनी हैं ?

if

Closing Stock-	Rs. 5,500/-
Furniture -	Rs. 2,500/-
Cash Closing Balance/-	Rs. 1,800/-
Creditors -	Rs. 2,500/-

Then, what is the owner's capital ?

- (A) Rs. 8,700/-
- (B) Rs. 7,300/-
- (C) Rs. 12,300/-
- (D) इनमें से कोई नहीं / None of these

81. Y लिमिटेड के खातों में 01.04.2022 को 1,00,000/- रुपये की बेची गई वस्तुओं के खाते में विविध देनदारों का शुरुआती शेष दिखाया गया है। वित्त वर्ष 2022-23 के दौरान 3,00,000/- रुपये का माल उधार बेचा गया है जबकि विविध देनदारों से 2,00,000/- रुपये प्राप्त हुए हैं। विविध देनदार खाते का 31.03.2023 को समापन शेष क्या होगा ?/ Y Ltd books of accounts shows opening balance of Sundry Debtors on account of goods sold as Rs 1,00,000/- as on 1.4.2022. During the FY year 2022-23 goods worth Rs 3,00,000/- has been sold on credit while Rs 2,00,000/- has been received from Sundry Debtors. What will be the closing balance as on 31.03.2023 of Sundry Debtors Account?
- (A) रुपये / Rs.3,00,000/-
 (B) रुपये / Rs.4,00,000/-
 (C) रुपये / Rs.2,00,000/-
 (D) इनमें से कोई नहीं/ None of these.
82. आयकर अधिनियम 1961 के अनुसार, एक वित्तीय वर्ष में 180 दिनों से कम उपयोग की गई सम्पत्ति पर स्वीकार्य मूल्यह्रास होगा / As per Income Tax Act 1961, allowable depreciation on asset used for less than 180 days in a financial year will be
- (A) 100 प्रतिशत/ %
 (B) 50 प्रतिशत/ %
 (C) 75 प्रतिशत/ %
 (D) इनमें से कोई नहीं/ None of these
83. एक तलपट संतुलित नहीं हो पायेगा यदि:
 A Trial Balance will not balance if:
- (A) लेनदार को रू0 500/- के नकद भुगतान को व्यापार देय खाते में रू0 50/- से डेबिट और नकद खाते में रू0 500/- से क्रेडिट कर दिया जाता है।/ Rs. 500/- Cash payment to creditor is debited to Trade Payables a/c for Rs. 50/- and credited to Cash a/c Rs. 500/-
 (B) सही जर्नल प्रविष्टि दो बार पोस्ट की जाती है/ Correct Journal Entry is posted twice.
 (C) उधार खरीद को क्रेय खाते में डेबिट और नकद खाते में क्रेडिट कर दिया जाता है/ The purchase on credit basis is debited to purchases and credited to cash.
 (D) इनमें से कोई नहीं/ None of these

84. एक कम्पनी के खातों की किताबों से पता चलता है कि 31.03.2023 तक 2,50,000/- रुपये का भुगतान नहीं किया गया है। कम्पनी की बैलेंस शीट में इस अवैतनिक वेतन को के रूप में दिखाया जाएगा। / The books of accounts of a company shows that Rs 2,50,000/- is unpaid wages as on 31.03.2023. In balance sheet of the company this unpaid wages shall be shown as
- (A) आकस्मिक देयता / Contingent Liability
 (B) वर्तमान देयता / Current Liability
 (C) वर्तमान सम्पत्ति / Current Asset
 (D) इनमें से कोई नहीं / None of these.
85. 25 मार्च 2023 को एक कम्पनी ने श्री रमेश को 50,000/- रुपये का चेक जारी किया। लेकिन कम्पनी के बैंक स्टेटमेंट में 31.03.2023 तक उक्त चेक राशि का डेबिट नहीं दर्शाया गया है। कम्पनी के बैंक समाधान विवरण में इसे निम्न प्रकार दर्शाया जाएगा :- / On 25th March 2023 a company issued cheque of Rs 50,000/- to Mr. Ramesh. But the bank statement of the company does not reflect debit of the said cheque amount till 31.03.2023. In the Bank Reconciliation Statement (BRS) of the company the same would be shown as :-
- (A) चेक जारी किया गया लेकिन अभी तक प्रस्तुत नहीं किया गया / Cheque Issued but not yet presented
 (B) बैंक द्वारा चेक अनादरित होना / Cheque dishonoured by bank
 (C) बैंक में संग्रह करने हेतु भेजे गए चेक जिनका संग्रहण अभी नहीं हुआ है / Cheque in transit.
 (D) इनमें से कोई नहीं / None of these.
86. सीटीएस-2010 (CTS-2010) मानक किस से सम्बन्धित हैं ?
 CTS-2010 Standards are related to
- (A) बैंक सावधि जमा / Bank Fixed Deposits
 (B) बैंक चेक / Bank Cheques
 (C) बैंक ऋण / Bank Loans
 (D) इनमें से कोई नहीं / None of these
87. देनदार का खाता खराब (जिसकी वसूली की कोई सम्भावना न हो) होने की स्थिति में, राशि को निम्नलिखित में से किस लेखा षीर्ष में जमा (Credit) किया जाना चाहिए:
 In Case of a debt becoming bad, the amount should be credited to:
- (A) अशोध्य देनदार खाता / Bad Debts Account
 (B) रोकड़ खाता / Cash Account
 (C) व्यापार प्राप्त खाता / Trade Receivables Account
 (D) इनमें से कोई नहीं / None of these

88. S & S लिमिटेड के खातों की पुस्तकों से पता चलता है कि 01.04.2022 तक विविध लेनदारों के खाते की शेष राशि 7,00,000 /- रुपये है। वित्त वर्ष 2022-23 के दौरान कम्पनी ने 8,00,000 /- रुपये का सामान क्रेडिट पर खरीदा, जबकि वर्ष के दौरान कम्पनी ने विविध लेनदारों को 3,50,000 /- रुपये का भुगतान किया। 31.03.2023 तक विविध लेनदारों के खाते का समापन शेष है :- / The books of accounts of S & S Ltd shows that as on 1.4.2022 the Sundry Creditors Account balance is Rs 7,00,000/- . During the FY year 2022-23 the company purchased goods worth Rs 8,00,000/- on credit while during the year the company paid Rs 3,50,000/- to Sundry Creditors. As on 31.03.2023 the closing balance of Sundry Creditors Account is :

- (A) रुपये / Rs. 1,50,000/-
- (B) रुपये / Rs. 4,50,000/-
- (C) रुपये / Rs. 11,50,000/-
- (D) इनमें से कोई नहीं / None of these.

89. यदि : बेचे गये माल की लागत - ₹ 90,000 /-

आरंभित रहतिया - ₹ 10,800 /-

अंतिम रहतिया - ₹ 16,000 /-

कुल क्रय की राशि क्या होगी ?

If: Cost of Goods sold- Rs. 80,700/-

Opening Inventory is - Rs. 5,800/-

Closing Inventory is - Rs. 6,000/-

Then, amount of Purchases:

- (A) Rs. 85,200/-
- (B) Rs. 95,200/-
- (C) Rs. 1,06,200/-
- (D) इनमें से कोई नहीं / None of these

90. ₹ 2,00,000 /- की लागत वाले माल को परेशिती (Consignee) को लागत + 25% पर भेजा गया माल की बीजक राशि क्या होगी ?

Goods costing Rs. 2,00,000/- sent out to consignee at Cost + 25% invoice value of the goods will be:

- (A) Rs. 1,50,000/-
- (B) Rs. 3,00,000/-
- (C) Rs. 1,00,000/-
- (D) इनमें से कोई नहीं / None of these

91. उधार पर माल की बिक्री की जर्नल प्रविष्टि क्या होगी ?

Journal entry for sale of goods on credit will be:

- | | | |
|-----|-------------------|----|
| (A) | Sales A/c | Dr |
| | To Sundry Debtors | Cr |
| (B) | Sundry Debtors | Dr |
| | To Sales A/c | Cr |
| (C) | Profit & Loss A/c | Dr |
| | To Sundry Debtors | Cr |

(D) इनमें से कोई नहीं / None of these

92. लागत अवधारणा के अनुसार, सम्पतियाँ हमेशा पर मूल्यांकित की जाती हैं।

According to 'Cost concept', Assets are always valued at.....

- (A) क्रय मूल्य / Purchase Cost
(B) वर्तमान मूल्य / Current Value
(C) बाजार मूल्य / Market Price
(D) इनमें से कोई नहीं / None of these

93. यदि संदिग्ध ऋणों के प्रावधान (Provision for doubtful debts) में कमी कर दी जाये, तो इसका क्या परिणाम होगा ?

A decrease in the provision for doubtful debts would result in:

- (A) देयताओं में वृद्धि / An increase in Liabilities.
(B) शुद्ध (निवल) लाभ में वृद्धि / An increase in net profit.
(C) कार्यशील पूंजी में कमी / A decrease in Working Capital.
(D) इनमें से कोई नहीं / None of these

94. ₹15,000 का व्यय जो कि उपसंस्थान की मरम्मत पर किया गया है, सम्बन्धित है?

Expenditure amounting Rs. 15,000 on repair of sub-station is in the nature of?

- (A) परिचालन एवं अनुरक्षण व्यय (Operation & Maintenance Expenditure)
(B) पूंजीगत व्यय (Capital Expenditure)
(C) प्रशासनिक व्यय (Administrative & General Expenditure)
(D) इनमें से कोई नहीं (None of these)

95. भगवती पॉलीपैक लिमिटेड नकद छूट पर सामान बेचता है यदि पूरी मूल कीमत (जीएसटी को छोड़कर) का अग्रिम भुगतान किया जाता है। ऐसी छूट के बदले में क्रेडिट नोट जारी किया जाता है। एक्स लिमिटेड ने इस शर्त पर एच.डी.पी.ई. बैग की खरीद के लिए 2,00,000/- रुपये का अग्रिम भुगतान किया है कि 10 प्रतिशत नकद छूट की अनुमति होगी। ऐसी बिक्री पर 18 प्रतिशत जीएसटी देय है। भगवती पॉलीपैक लिमिटेड ने एच.डी.पी.ई. बैग वितरित किए और छूट के बाद चालान जारी किया। इस बिक्री चालान पर जीएसटी राशि है:- / Bhagawati Polypack Ltd sells goods on cash discount if full basic price (excluding GST is paid in advance. Credit Note is issued in lieu of such discount. X Ltd paid an advance of Rs 2,00,000/- for purchase of HDPE Bags on the terms that 10% cash discount will be allowed. 18% GST is chargeable on such sale. Bhagawati Polypack Ltd delivered HDPE bags and raised Invoice after discount. The GST amount on this sale invoice is :
- (A) रुपये / Rs.34,400/-
 (B) रुपये / Rs.36,000/-
 (C) रुपये / Rs.32,400/-
 (D) इनमें से कोई नहीं / None of these
96. निम्न में से कौन सा सही नहीं है ?
 Which of the following statement is/are not correct?
- (A) विक्रय किये गये माल का वापस आना विक्रय वापसी होता है
 (Returns inwards are nothing but sales returns)
 (B) एक अच्छी तरह से अनुरक्षित सम्पत्ति को ह्रास की आवश्यकता नहीं होता
 (A well maintained assets need not be depreciated)
 (C) दोनों (A) और (B) {Both (A) and (B) above}
 (D) इनमें से कोई नहीं (None of these)
97. एक कम्पनी एक वाहन के लिए 15,000/- रुपये का बीमा प्रीमियम का भुगतान करती है, जबकि वित्तीय वर्ष 2022-23 के लिए वास्तविक प्रीमियम केवल 12,000/- रुपये है। अतिरिक्त भुगतान किए गए 3,000/- रुपये को इस प्रकार माना जाएगा :- / A company pays Insurance premium of Rs 15,000/- against a vehicle while actual premium for the financial year 2022-23 is Rs 12,000/- only. Rs 3,000/- paid extra is treated as :-
- (A) वित्त वर्ष 2022-23 की बैलेंस शीट में अचल सम्पत्ति / Fixed asset in the Balance Sheet of FY 2022-23
 (B) वित्त वर्ष 2022-23 की बैलेंस शीट में वर्तमान सम्पत्ति के रूप में / As current asset in the Balance Sheet of FY 2022-23
 (C) वित्त वर्ष 2022-23 की बैलेंस शीट में गैर-वर्तमान परिसम्पत्ति के रूप में / As Non- Current Asset in the Balance Sheet of FY 2022-23
 (D) इनमें से कोई नहीं / None of these

98. यदि : बेचे गये माल की लागत — ₹ 2,00,000/-
विक्रय — ₹ 1,80,000/-
लाभ का प्रतिशत — ₹ 0 लागत का 20%
तो, अंतिम रहतिया कितना होगा ?

If: Goods Purchased	-	Rs. 2,00,000/-
Sales	-	Rs. 1,80,000/-
Margin	-	20% on cost

Then, Closing Inventory =

- (A) Rs. 50,000/-
(B) Rs. 25,000/-
(C) Rs. 75,000/-
(D) इनमें से कोई नहीं/ None of these
99. एक्स लिमिटेड ने मैसर्स हरि एंटरप्राइजेज को 12,000/- रुपये का स्कैप बेचा, जिस पर 2,000/- रुपये सीजीएसटी देय है और 2,000/- रुपये एसजीएसटी देय है। इस लेनदेन को रिकॉर्ड करने के लिए जर्नल प्रविष्टि होगी :- / X Ltd sold scrap worth Rs 12,000/- to M/s. Hari Enterprises on which CGST payable is Rs 2,000/- and SGST payable is Rs 2,000/-. The journal entry for recording this transaction will be :

(A) M/s. Hari Enterprises Dr Rs.16,000/-

To Scrap Sale Account Cr Rs.12,000/-
To CGST Payable Cr Rs. 2,000/-
To SGST Payable Cr Rs. 2,000/-

(B) Scrap Sale Account Dr Rs.12,000/-
CGST Payable Dr Rs. 2,000/-
SGST Payable Dr Rs. 2,000/-

To M/s. Hari Enterprises Cr Rs.16,000/-

(C) Scrap Sale Account Dr Rs. 16,000/-

To M/s. Hari Enterprises Cr Rs. 12,000/-
To CGST Payable Cr Rs. 2,000/-
To SGST Payable Cr Rs. 2,000/-

(D) इनमें से कोई नहीं/ None of these

100. X ने कुल माल दिल्ली के Y को भेजा। 1/10 माल पारगमन (transit) में खो गया। खोये हुए माल का बीजक मूल्य रु0 12,500/- है। माल की पूर्ण खेप का बीजक मूल्य क्या है ?

X sent out certain goods to Y of Delhi. 1/10th of the goods was lost in transit. Invoice value of the goods lost is Rs. 12,500/-. Invoice value of the goods sent out on consignment will be:

- (A) Rs. 1,20,000/-
- (B) Rs. 1,15,000/-
- (C) Rs. 1,40,000/-
- (D) इनमें से कोई नहीं / None of these

SPACE FOR ROUGH WORK

रफ़ कार्य हेतु स्थान

SPACE FOR ROUGH WORK

रफ़ कार्य हेतु स्थान

SPACE FOR ROUGH WORK

रफ कार्य हेतु स्थान

**Answer Key for Departmental Examination for Assistant Accountant Paper-I Held
on 13.08.2023**

Question No.	Answer	Question No.	Answer	Question No.	Answer
01	C	35	B	69	B
02	A	36	A	70	A
03	D	37	D	71	A
04	C	38	A	72	B
05	D	39	C	73	C
06	B	40	D	74	A
07	A	41	B	75	D
08	C	42	A	76	A
09	D	43	B	77	C
10	C	44	A	78	A
11	B	45	B	79	A
12	A	46	C	80	B
13	B	47	D	81	C
14	A	48	C	82	B
15	B	49	C	83	A
16	C	50	A	84	B
17	A	51	B	85	A
18	D	52	A	86	B
19	C	53	D	87	C
20	C	54	C	88	C
21	A	55	B	89	ALL CORRECT
22	A	56	D	90	D
23	B	57	A	91	B
24	B	58	C	92	A
25	B	59	C	93	B
26	C	60	A	94	A
27	A	61	A	95	C
28	A	62	C	96	B
29	C	63	A	97	B
30	B	64	C	98	A
31	B	65	B	99	A
32	D	66	B	100	D
33	A	67	A		
34	C	68	B		

(Signature)

जब तक आपको यह प्रश्न पुस्तिका खोलने को न कहा जाए तब तक ना खोलें		
क्रम संख्या	प्रश्न पुस्तिका	प्रश्न पुस्तिका कोड (QUESTION BOOKLET CODE)
विभागीय परीक्षा सहायक लेखाकार वर्ष – 2023	अंकगणित (भाग-2)	002
समय: दो घंटे (2 hours)		पूर्णांक : 100

INSTRUCITONS

1. परीक्षा प्रारंभ होने के तुरंत बाद, आप इस प्रश्न पुस्तिका की पडताल अवश्य कर लें कि इस में कोई बिना छपा, फटा या छुटा हुआ पृष्ठ अथवा प्रश्न आदि न हो। यदि ऐसा है, तो इसे सही प्रश्न पुस्तिका से बदल लें।
 2. कृपया ध्यान रखें कि OMR उत्तर पुस्तिका में, उचित स्थान पर, रोल नंबर प्रश्न पुस्तिका कोड (Question Booklet Code) 002 को, ध्यान से एवं बिना किसी चूक या विसंगति से भरने और कूटबद्ध करने की जिम्मेदारी उम्मीदवार की है। किसी भी प्रकार की चूक/विसंगति की स्थिति में उत्तर पत्रक निरस्त कर दिया जायेगा।
 3. इस प्रश्न पर साथ में दिए गए कोष्ठक में आपको अनुक्रमांक लिखना है। प्रश्न पुस्तिका पर और कुछ न लिखें।
- अनुक्रमांक**
4. इस प्रश्न पुस्तिका में 100 प्रश्न दिए गए हैं। प्रत्येक प्रश्न हिंदी और अंग्रेजी दोनों में छपा है। प्रत्येक प्रश्न में चार प्रत्युत्तर (उत्तर) दिए गए हैं। इनमें से एक प्रत्युत्तर (उत्तर) को चुन लें, जिसे आप उत्तर पत्रक में अंकित करना चाहते हैं। यदि आप को ऐसा लगे कि एक से अधिक प्रत्युत्तर (उत्तर) सही हैं, तो उस प्रत्युत्तर (उत्तर) को अंकित करें जो आपको सर्वोत्तम लगे। प्रत्येक प्रश्न के लिए केवल एक ही प्रत्युत्तर (उत्तर) चुनना है।
 5. सभी प्रश्नों के अंक समान हैं।
 6. इस से पहले कि आप प्रश्न पुस्तिका के विभिन्न प्रश्न के प्रत्युत्तर (उत्तर) उत्तर-पत्रक पर अंकित करना शुरू करें, आपको प्रवेश पत्र के साथ प्रेषित अनुदेशों के अनुसार कुछ विवरण उत्तर-पत्रक में देने हैं।
 7. आप अपने सभी प्रत्युत्तर (उत्तर) को उत्तर-पत्रक में भरने के बाद तथा परीक्षा के समापन पर केवल उत्तर-पत्रक अधीक्षक को सौंप दें। आपको अपने साथ प्रश्न पुस्तिका ले जाने की अनुमति है।
 8. कच्चे काम के लिए पत्रक प्रश्न पुस्तिका के अंत में संलग्न है।
 9. गलत उत्तरों के लिए दण्ड:
वस्तुनिष्ठ प्रश्न-पत्रों में उम्मीदवार द्वारा दिए गए गलत उत्तरों के लिए दण्ड दिया जायेगा।
 - (i) प्रत्येक प्रश्न के लिए चार वैकल्पिक उत्तर हैं। उम्मीदवार द्वारा प्रत्येक प्रश्न के लिए दिए गए गलत उत्तर के लिए प्रश्न हेतु नियत किये गए अंकों का एक-चौथाई दण्ड के रूप में काटा जायेगा।
 - (ii) यदि कोई उम्मीदवार एक से अधिक उत्तर देता है, तो इसे गलत उत्तर माना जायेगा, यद्यपि दिए गए उत्तरों में से एक उत्तर सही होता है, फिर भी उस प्रश्न के लिए उपरोक्तानुसार ही उसी तरह का दण्ड दिया जायेगा।
 - (iii) यदि उम्मीदवार द्वारा कोई प्रश्न हल नहीं किया जाता है, अर्थात् उम्मीदवार द्वारा उत्तर नहीं दिया जाता है, तो उस प्रश्न के लिए कोई दण्ड नहीं दिया जायेगा।

अंकगणित (भाग-2)

ARITHMETIC (Part – 2)

1- 0, 3, 8, 15, 24, 35, अनुक्रम की अगली संख्या क्या होगी?

The next number of the sequence 0, 3, 8, 15, 24, 35, is

- (A) 46 (B) 47
(C) 48 (D) 50

2- गुणन फलक $(154 \times 126 \times 289 \times 982)$ में इकाई अंक क्या होगा ?

What is the unit place number of the multiplication of $154 \times 126 \times 289 \times 982$?

- (A) 2 (B) 1
(C) 4 (D) इनमें से कोई नहीं / None of the Above

3- 1, 2, 5, 26, अनुक्रम की अगली संख्या क्या होगी?

The next number of the sequence 1, 2, 5, 26, is

- (A) 677 (B) 47
(C) 52 (D) 156

4- 5624 में छोटी से छोटी संख्या क्या जोड़ी जाए कि योगफल 5 से पूर्णतया विभक्त हो जाये ?

What smallest number can be added to 8620 to make it exactly divisible by 7?

- (A) 2 (B) 3
(C) 1 (D) इनमें से कोई नहीं / None of the Above

5- अनुक्रम 0, 2, 8, 18,, 50 की लुप्त संख्या है-

The missing number of the sequence 0, 2, 8, 18,, 50 is -

- (A) 28 (B) 30
(C) 32 (D) 36

6- $44444444 / ? = 11$

(A) 404040

(B) 4040404

(C) 4040401

(D) इनमें से कोई नहीं / None of the Above

7- संख्या 23474 निम्न से पूर्णतः विभाज्य है -

The number 23474 is exactly divisible by -

(A) 2 and 3 only/ केवल 2 तथा 3 (B) 2 and 4 only/ केवल 2 तथा 4

(C) 2 and 11 only/ केवल 2 तथा 11 (D) 2 only/ केवल 2

8- 'a' 228 को विभाजित करता है और 18 शेष बचता है। 'a' का दो अंकों का सबसे बड़ा मान है-

'a' divides 228 leaving a remainder 18. The biggest two digit value of 'a' is -

(A) 21

(B) 70

(C) 35

(D) 30

9- निम्न भिन्नों में कौन-सी सबसे छोटी है -

Which of the following fraction is the smallest -

$\frac{9}{13}, \frac{17}{26}, \frac{28}{29}, \frac{33}{52}$

(A) $\frac{33}{52}$

(B) $\frac{17}{26}$

(C) $\frac{9}{13}$

(D) $\frac{28}{29}$

10- निम्नलिखित में से कितनी संख्याएँ 125 से विभाजित होती हैं ?

How many of the numbers are divisible by 125?

250, 369, 491, 625, 751, 865, 985 तथा 1125

(A) 5

(B) 2

(C) 3

(D) इनमें से कोई नहीं / None of the Above

11- $6/13$ को दशमलव भिन्न में बदलने पर क्या मिलेगा ?

If $6/13$ is converted to decimal number then what will be that number?

- (A) 0.046158 (B) 4.61580
(C) 0.461638 (D) इनमें से कोई नहीं / None of the Above

12- निम्न के मान की गणना कीजिए -

Calculate the value of -

$$0.77777 + 0.7777 + 0.777 + 0.77 + 0.7 + 0.07$$

- (A) 3.87247 (B) 3.80247
(C) 3.85274 (D) 3.86274

13- नीचे दी गई भिन्नों में से कौन सी भिन्न $1/3$ से बड़ी तथा $11/15$ से छोटी है ?

Which of the following number is higher than $1/3$ but less than $11/15$?

- (A) $3/8$ (B) $5/9$
(C) $9/11$ (D) इनमें से कोई नहीं / None of the Above

14- $101.505 + 10.02 \times 2.3 = ?$

- (A) 124.551 (B) 125.461
(C) 134.651 (D) इनमें से कोई नहीं / None of the Above

15- दो संख्याओं का महत्तम समापवर्तक तथा लघुत्तम समापवर्तक क्रमशः 26 तथा 1820 है। यदि इनमें से एक संख्या 130 है, तो दूसरी संख्या क्या होगी ?

The HCF and LCM of two numbers are 26 and 1820 respectively. If one of these numbers is 130 then what is the other number?

- (A) 70 (B) 1690
(C) 364 (D) इनमें से कोई नहीं / None of the Above

16- 1 से 5 तक की संख्याओं के वर्गों का औसत है -

The average of squares of number 1 to 5 is -

- (A) 11 (B) 5
(C) 8 (D) 9

17- तीन संख्याएं 1:2:3 के अनुपात में हैं तथा उनका महत्तम समापवर्तक 48 है। ये संख्याएं हैं ?

If three numbers are in the ratio 1:2:3 and their HCF is 48 then what are these numbers?

- (A) 64, 128, 192 (B) 36, 72, 144
(C) 48, 96, 144 (D) इनमें से कोई नहीं / None of the Above

18- $0.1111 \times 0.010 = ?$

- (A) .011110 (B) 0.001111
(C) 0.110110 (D) इनमें से कोई नहीं / None of the Above

19- 2.4 को प्रतिशत में बदलें।

2.4 converted to percentage is -

- (A) 0.24% (B) 24%
(C) 240% (D) 2.4%

20- एक संख्या में पहले 10 प्रतिशत की कमी की जाती है और उसके बाद 10 प्रतिशत की वृद्धि की जाती है। इस प्रकार प्राप्त हुई संख्या मूल संख्या से 100 कम है। मूल संख्या ज्ञात कीजिए।

A number is first decreased by 10% and then increased by 10%. The number so obtained is 100 less than the original number. The original number is -

- (A) 100000 (B) 100
(C) 1000 (D) 10000

- 21— कपड़े का मूल्य 25 प्रतिशत कम कर देने पर उसकी बिक्री की मात्रा में 20 प्रतिशत की वृद्धि हो गई थी। तदनुसार दुकान की सकल प्राप्ति पर क्या प्रभाव पड़ा ?

When the price of cloth was reduced by 25%, the quantity of cloth sold increased by 20%. What was the effect on gross receipt of the shop?

- (A) 5% increase / वृद्धि (B) 5% decrease / कमी
(C) 10% increase / वृद्धि (D) 10% decrease / कमी

- 22— दो संख्याओं का अंतर उन दोनों में बड़ी संख्या के 20 प्रतिशत के बराबर है। यदि छोटी संख्या 20 हो तो बड़ी संख्या क्या होगी ?

The difference of two numbers is 20% of the larger number. If the smaller number is 20, the larger number is -

- (A) 25 (B) 45
(C) 50 (D) 30

- 23— 5 : 4 बराबर है ?

- (A) 90 प्रतिशत (B) 130 प्रतिशत
(C) 125 प्रतिशत (D) इनमें से कोई नहीं / None of the Above

- 24— ? का 14 प्रतिशत = 0.007

- (A) 0.05 (B) 0.5
(C) 0.005 (D) इनमें से कोई नहीं / None of the Above

- 25— पाँच अंकों की वह सबसे बड़ी संख्या ज्ञात कीजिए जिसे 3, 5, 8, 12 से भाग देने पर 2 शेष बचे।

Find the greatest number of five digits which when divided by 3, 5, 8, 12 have 2 as remainder?

- (A) 99958 (B) 99960
(C) 99962 (D) इनमें से कोई नहीं / None of the Above

26— 1, 3, 5, 7, 9, 11, इन 25 संख्याओं का औसत कितना होगा ?

The average of 1, 3, 5, 7, 9, 11, to 25 terms is -

- | | |
|---------|--------|
| (A) 125 | (B) 25 |
| (C) 35 | (D) 50 |

27— दो व्यक्तियों की आयु का अनुपात 5 : 9 है और उनमें से एक की आयु दूसरे से 40 वर्ष अधिक है। उनकी आयु का योग कितने वर्ष होगा ?

The ratio of ages of two persons is 5:9 and the age of one of them is greater than the other by 40 years. The sum of their ages is -

- | | |
|---------|---------|
| (A) 180 | (B) 140 |
| (C) 160 | (D) 150 |

28— हर्ष की आयु 40 वर्ष है और रितु की आयु 60 वर्ष है। कितने वर्ष पहले उनकी आयु का अनुपात 3 : 5 था ?

Harsha is 40 years old and Ritu is 60 years old. How many years ago was the ratio of their ages 3 : 5 ?

- | | |
|---------------------|---------------------|
| (A) 10 वर्ष / years | (B) 20 वर्ष / years |
| (C) 12 वर्ष / years | (D) 15 वर्ष / years |

29— A, B एवं C की औसत आयु 20 वर्ष तथा B और C की औसत आयु 25 वर्ष है। A की आयु क्या है ?

The average age of A, B and C is 20 years, and that of B and C is 25 years. What is the age of A?

- | | |
|---------------------|---------------------|
| (A) 20 वर्ष / years | (B) 10 वर्ष / years |
| (C) 15 वर्ष / years | (D) 25 वर्ष / years |

- 30- A, B एवं C ने 2 : 3 : 5 के अनुपात में अपनी-अपनी पूंजी का निवेदश किया। उन माहों की संख्या का अनुपात जिस अवधि के लिए A, B एवं C ने निवेश किया, 4 : 2 : 3 है। यदि C का लाभांश A के लाभांश से 1,47,000 रुपये अधिक हो, तो B का लाभांश है-

A, B and C invested their capitals in the ratio of 2:3:5. The ratio of months for which A, B and C invested is 4:2:3. If C gets a share of profit which is Rs. 1,47,000 more than that of A, then B's share in the profit is:-

- (A) 1,26,000 (B) 1,68,000
(C) 1,05,000 (D) 1,89,000

- 31- मनोहर ने ₹0 30,000 लगाकर एक दुकान आरम्भ की। चार माह बाद ₹0 45,000 लगाकर कालू इस दुकान में साझी हो गया। दो वर्ष के अन्त में कुल ₹0 54,000 के लाभ में से कालू का भाग क्या होगा ?

Manohar started a shop investing Rs.30,000/-. After four months Kalu became a partner by investing Rs.45,000/-. After two year the total profit was Rs.54,000/-. What will be Kalu's share of profit?

- (A) ₹0 15,000 (B) ₹0 30,000
(C) ₹0 45,000 (D) इनमें से कोई नहीं / None of the Above

- 32- A कोई काम 6 दिनों में कर लेता है और B उसी काम को 9 दिनों में। यदि दोनों मिलकर काम करें तो वही काम कितने दिनों में पूरा किया जा सकता है ?

A can do a work in 6 days while B can do the same work in 9 days. How many days will both take together to complete the work?

- (A) 7.5 (B) 5.4
(C) 3.6 (D) 3

- 33- A अकेला किसी कार्य को 12 दिन में पूरा कर सकता है। A और B मिलकर उसी काम को 8 दिन में पूरा कर सकते हैं। B अकेला उसी कार्य को पूरा करने में कितना समय लेगा ?

A alone can complete a work in 12 days. A and B together can complete it in 8 days. How long will B alone take to complete the work ?

- (A) 24 (B) 18
(C) 16 (D) 20

- 34- रमन, नीरज तथा राजू किसी कार्य को क्रमशः 8 दिन, 12 दिन तथा 24 दिन में समाप्त कर सकते हैं। इस कार्य को तीनों मिलकर कितने दिन में समाप्त कर सकेंगे ?

Raman, Neeraj and Raju can complete a work in 8 days, 12 days and 24 days respectively. In how many days they will complete the work if they work jointly?

- (A) 8 दिन (B) 2 दिन
(C) 4 दिन (D) इनमें से कोई नहीं / None of the Above

- 35- 5 पुरुष किसी काम को 6 दिन में पूरा कर सकते हैं जबकि महिलाएं उसी 5 दिन में पूरा कर सकती हैं। 5 महिलाएं तथा 3 पुरुष मिलकर उस काम को कितने दिन में पूरा करेंगे -

5 men can do a piece of work in 6 days while 10 women can do it in 5 days. In how many days can 5 women and 3 men do it.

- (A) 4 (B) 5
(C) 6 (D) 8

- 36- दो पाइप N एवं Q एक पानी की टंकी को क्रमशः 90 तथा 10 घण्टे में भर सकते हैं। यदि दोनों पाइपों को एक साथ खोल दिया जाये, तो टंकी कितने घण्टे में भर जायेगी ?

Two pipes N and Q can fill a water tank in 90 and 10 hours respectively. If they are opened together, then how many hours will the tank be filled?

- (A) 9 (B) 20
(C) 18 (D) 7

- 37- एक बस 20 घण्टे में 720 किमी की यात्रा तय करती है। मीटर/सेकेण्ड में इसकी औसत गति की गणना करें -

A bus travels 720 km. in 20 hours. Calculate its average speed in meters/second.

- (A) 12 (B) 15
(C) 18 (D) 10

- 38- 0.00033 को साधारण भिन्न में बदलने पर क्या मान मिलेगा ?

If 0.00033 is converted to natural fraction, then what will be that fraction?

- (A) $\frac{3}{16000}$ (B) $\frac{1}{2800}$
(C) $\frac{1}{3000}$ (D) इनमें से कोई नहीं / None of the Above

39- निम्नलिखित में प्रश्न चिन्ह (?) के स्थान पर क्या आयेगा:

What will come in place of question mark (?) in following:

$$\sqrt{16} \div \sqrt[3]{8} = ?$$

(A) 2

(B) 4

(C) $1/2$

(D) इनमें से कोई नहीं / None of the Above

40- एक कार 60.48 किमी की दूरी तय करने में 5.4 लीटर पेट्रोल की खपत करता है। 22 लीटर पेट्रोल में कितनी दूरी (किमी) तय की जायेगी -

A car consumes 5.4 litres of petrol to cover 60.48 km, how many kilometers be covered with 22 litres of petrol.

(A) 246.4

(B) 238.62

(C) 240.24

(D) 243.5

41- एक रेलगाड़ी 76 किमी/घण्टा की गति से चलती है। यदि यह 36 सेकेंड में एक खंभे को पार करती है, तो रेलगाड़ी की लंबाई है -

A train runs at 76 kmh speed. If it crosses a pole in 36 seconds then what is the length of train.

(A) 720 मीटर / meter

(B) 675 मीटर / meter

(C) 760 मीटर / meter

(D) 630 मीटर / meter

42- निम्नलिखित में प्रश्न चिन्ह (?) के स्थान पर क्या आयेगा:

What will come in place of question mark (?) in following:

$$\sqrt{441} = ?$$

(A) 19

(B) 23

(C) 21

(D) इनमें से कोई नहीं / None of the Above

43- एक त्रिभुज की भुजाएं 3 : 2 : 4 के अनुपात में हैं तथा परिमाप 72 सेमी. है। भुजाएं हैं -

The sides of a triangle are in the ratio 3:2:4 and the perimeter is 72 cm. The sides are:

(A) 48, 24, 12

(B) 24, 16, 32

(C) 36, 24, 12

(D) 36, 18, 9

- 44- किसी समद्विबाहु त्रिभुज का आधार और ऊँचाई क्रमशः 10 सेमी. और 12 सेमी. है। तो प्रत्येक बराबर भुजा की लंबाई क्या है ?—

The base and altitude of an isosceles triangle are 10 cm and 12 cm respectively. Then the length of each equal side is:

- (A) 10 सेमी. /cm (B) 15 सेमी. /cm
(C) 14 सेमी. /cm (D) 13 सेमी. /cm
- 45- निम्नलिखित में प्रश्न चिन्ह (?) के स्थान पर क्या आयेगा:
What will come in place of question mark (?) in following:
 $\sqrt[3]{729} = ?$
(A) 11 (B) 9
(C) 13 (D) इनमें से कोई नहीं / None of the Above

- 46- निम्न भिन्नों में कौन-सी सबसे बड़ी है —

Which of the following fraction is the largest —

- $\frac{6}{7}$, $\frac{5}{6}$, $\frac{7}{8}$, $\frac{4}{5}$
(A) $\frac{6}{7}$ (B) $\frac{4}{5}$
(C) $\frac{5}{6}$ (D) $\frac{7}{8}$

- 47- निम्नलिखित व्यंजक को हल कीजिए—

Solve the following expressions —

$$1 + 11 \times 11 - 11 \div 11$$

- (A) 22 (B) 121
(C) 131 (D) 11

- 48— 4 अंकों की सबसे बड़ी संख्या ज्ञात कीजिए जिसे 7, 10, 15, 21 और 28 से विभाजित करने पर कोई शेष नहीं बचता।

Find the greatest number of 4 digits which when divided by 7, 10, 15, 21 and 28 leaves no remainder.

- | | |
|----------|----------|
| (A) 9999 | (B) 9782 |
| (C) 9980 | (D) 9660 |

- 49— 3 अंकों की सबसे छोटी संख्या ज्ञात कीजिए जिसे 6, 8, 12 और 20 से विभाजित करने पर कोई शेष नहीं बचता।

Find the smallest number of 3 digits which when divided by 6, 8, 12 and 20 leaves no remainder.

- | | |
|---------|---------|
| (A) 120 | (B) 150 |
| (C) 210 | (D) 140 |

- 50— दो संख्याओं का महत्तम समापवर्तक तथा लघुत्तम समापवर्तक क्रमशः 28 तथा 336 है। यदि इनमें से एक संख्या 112 है, तो दूसरी संख्या क्या होगी ?

The HCF and LCM of two numbers are 28 and 336 respectively. If one of these numbers is 112 then what is the other number?

- | | |
|--------|--------|
| (A) 80 | (B) 84 |
| (C) 78 | (D) 88 |

- 51— 20, 25, 30 एवं 36 का लघुत्तम समापवर्तक ज्ञात कीजिए।

Find the LCM of 20, 25, 30 and 36.

- | | |
|---------|---------|
| (A) 790 | (B) 900 |
| (C) 880 | (D) 920 |

- 52— 48, 72 एवं 84 का महत्तम समापवर्तक ज्ञात कीजिए।

Find the HCF of 48, 72 and 84.

- | | |
|--------|-------|
| (A) 24 | (B) 6 |
| (C) 12 | (D) 3 |

53- निम्नलिखित में प्रश्न चिन्ह (?) के स्थान पर क्या आयेगा:

What will come in place of question mark (?) in following:

$$22524 + 77475 + 1 = ?$$

(A) 1,00,000

(B) 1,00,110

(C) 1,00,011

(D) इनमें से कोई नहीं / None of the Above

54- निम्नलिखित में से कौन सा 7.5 के बराबर है ?

Which of the following is equivalent to 7.5?

(A) 750%

(B) 0.75%

(C) 75%

(D) 7.5%

55- एक फैक्ट्री प्रत्येक सप्ताह 525 कारों का उत्पादन करती है। 15 दिनों में कितनी कारें तैयार हुईं?

A factory produces 525 cars each week. How many cars are produces in 15 days?

(A) 1025

(B) 1125

(C) 1225

(D) 975

56- निम्नलिखित में प्रश्न चिन्ह (?) के स्थान पर क्या आयेगा:

What will come in place of question mark (?) in following:

$$2190 / 2336 = ?$$

(A) 13 / 16

(B) 15 / 17

(C) 16 / 19

(D) इनमें से कोई नहीं / None of the Above

57- सरल कीजिए।

Simplify

$$36 \div \{8 + (6 - 2)\}$$

(A) 3

(B) 6

(C) 12

(D) 18

58— 10.1, 12.5, 7.25, 14.8, 9.75, 8.08, 9, 7.96 का औसत ज्ञात कीजिए।

Find the average of 10.1, 12.5, 7.25, 14.8, 9.75, 8.08, 9, 7.96

- (A) 8.98 (B) 9.39
(C) 9.93 (D) 9.69

59— एक संख्या को जब 144 से भाग देते हैं तो शेषफल 45 प्राप्त होता है। जब वही संख्या को 9 से भाग दिया जायेगा तो कितना शेषफल प्राप्त होगा ?

A number when divided by 144 leaves 45 as remainder. What will be the remainder when the same number is divided by 9 ?

- (A) 0 (B) 1
(C) 2 (D) इनमें से कोई नहीं / None of the Above

60— डेजी के पिता औसतन 4300 रुपये प्रति सप्ताह कमाते हैं। 52 सप्ताह के एक वर्ष में वह कितना कमाते हैं (रुपये में) ?

Daisy's father earns on an average Rs. 4300 a week. How much does he earn in a year of 52 weeks (in Rs.) ?

- (A) 2,32,600 (B) 2,23,600
(C) 3,23,600 (D) 3,32,600

61— एक रेलगाड़ी 9 घण्टे में 432 किमी की दूरी तय करती है। वह 12 घण्टे में कितनी दूरी तय करती है ?

A train covers a distance of 432 km in 9 hours. What distance does it cover in 12 hours ?

- (A) 676 (B) 478
(C) 576 (D) 566

62- निम्नलिखित में प्रश्न चिन्ह (?) के स्थान पर क्या आयेगा:

What will come in place of question mark (?) in following:

$$144441 \div 11 = ?$$

(A) 13031

(B) 13131

(C) 14311

(D) इनमें से कोई नहीं / None of the Above

63- यदि कोई संख्या 31 से उतनी बड़ी है जितनी वह 75 से छोटी है, तो वह संख्या है -

If a number is as much greater than 31 as it is less than 75, then the number is-

(A) 106

(B) 48

(C) 51

(D) 53

64- 1 से 50 तक की संख्याएं लिखने में कुल कितने अंकों की आवश्यकता पड़ेगी ?

How many digits in all are required to write numbers from 1 to 50 ?

(A) 91

(B) 96

(C) 92

(D) 95

65- निम्नलिखित में प्रश्न चिन्ह (?) के स्थान पर क्या आयेगा:

What will come in place of question mark (?) in following:

$$2222 \times 17 = ?$$

(A) 37784

(B) 37874

(C) 37877

(D) इनमें से कोई नहीं / None of the Above

66- गलियारे को पक्का करने के लिए 10 सेमी. लम्बी और 6 सेमी. चौड़ी 750 टाइलों का उपयोग किया जाता है। गलियारे का क्षेत्रफल सेमी. वर्ग में ज्ञात कीजिए।

750 tiles each 10 cm long and 6 cm wide are used to pave the corridor. Find the area of the corridor (in cm²).

(A) 43000

(B) 46000

(C) 45000

(D) इनमें से कोई नहीं / None of the Above

67— अनुक्रम 5, 6, 15,, 89, 170, 291 की लुप्त संख्या है—

The missing number of the sequence 5, 6, 15,, 89, 170, 291 is -

- (A) 50 (B) 40
(C) 42 (D) 32

68— अनुक्रम 1, 2, 6, 24, x में x का मान क्या होगा —

The value of x in the sequence 1, 2, 6, 24, x is

- (A) 46 (B) 56
(C) 96 (D) 120

69— निम्नलिखित में प्रश्न चिन्ह (?) के स्थान पर क्या आयेगा:

What will come in place of question mark (?) in following:

$$\sqrt{5500 + 100 + 25} = ?$$

- (A) 75 (B) 55
(C) 65 (D) इनमें से कोई नहीं / None of the Above

70— सरल कीजिए।

Simplify

$$16 - (8 \div 4) \times 2 + 8$$

- (A) 24 (B) 0
(C) 4 (D) 16

71— 15 मीटर x 12 मीटर का एक बगीचा 1 मीटर चौड़े रास्ते से घिरा हुआ है। रास्ते का क्षेत्रफल मीटर वर्ग में ज्ञात कीजिए।

A garden 15m by 12m is surrounded by a path 1 m wide. Find the area of the path (in m²)?

- (A) 78 (B) 58
(C) 68 (D) 48

- 72— एक कमरा 8 मीटर लम्बा और 6.5 मीटर चौड़ा है। कमरे में 6.5 मीटर लम्बा और 5 मीटर चौड़ा कार्पेट बिछाया गया है। कार्पेट से बिना ढके फर्श का क्षेत्रफल ज्ञात कीजिए।

A room is 8 m long and 6.5 m wide. A carpet 6.5 m long and 5 m wide is laid in the room. Find the area of the floor uncovered by the carpet (in m^2)?

- (A) 19.5 (B) 20.5
(C) 19.3 (D) 18.5

- 73— एक व्यक्ति ने 12 वस्तुएं 12 ₹ में खरीदकर 1.25 ₹ प्रति वस्तु के भाव बेच दीं। सौदे में उसका प्रतिशत लाभ है —

A man buys 12 articles for Rs. 12 and sells them at the rate of Rs. 1.25 per article. His gain percentage is -

- (A) 20% (B) 25%
(C) 15% (D) 18%

- 74— किसी वस्तु को 72 रुपये में बेचने पर 10 प्रतिशत की हानि होती है। 5 प्रतिशत का लाभ प्राप्त करने के लिए उस वस्तु का विक्रय मूल्य (रुपये में) होना चाहिए —

By selling an article for Rs. 72, there is a loss of 10%. In order to gain 5%, its selling price (in Rs.) should be -

- (A) 87 (B) 85
(C) 80 (D) 84

- 75— एक दुकानदार अपनी वस्तु का मूल्य इस प्रकार अंकित करता है कि 25 प्रतिशत की छूट देने के बाद भी उसे 20 प्रतिशत का लाभ होता है। यदि वस्तु का क्रय मूल्य 460 रुपये हो तो उसका अंकित मूल्य रुपये में क्या है ?

A shopkeeper marks his goods at a price such that after giving a discount of 25%, he gains 20%. If the cost price of the article is Rs. 460, what is its marked price in Rs. ?

- (A) 736 (B) 748
(C) 725 (D) 752

76— 25 प्रतिशत, 20 प्रतिशत और 10 प्रतिशत के क्रमिक बट्टे के समतुल्य एकल बट्टा है—

The successive discount of 25%, 20% and 10% is equivalent to a single discount of -

- | | |
|---------|---------|
| (A) 46% | (B) 48% |
| (C) 44% | (D) 52% |

77— वह धनराशि कितनी है, जो 5 प्रतिशत वार्षिक (365 दिन) साधारण ब्याज की दर पर देने पर रुपये 2.00 प्रतिदिन का ब्याज अर्जित कर ले ?—

The sum lent at 5% per annum (i.e. 365 days) simple interest, that produces interest, of Rs. 2.00 a day, is -

- | | |
|------------|------------|
| (A) 1,400 | (B) 14,700 |
| (C) 14,600 | (D) 7,300 |

78— 7,300 रुपये का 5 प्रतिशत वार्षिक ब्याज की दर से 11 मई, 1987 से 10 सितम्बर, 1987 (दोनों दिन सम्मिलित) का साधारण ब्याज कितना होगा ?

The simple interest on Rs. 7,300 from 11 May, 1987 to 10 September, 1987 (both days included) at 5% per annum is -

- | | |
|---------|---------|
| (A) 123 | (B) 103 |
| (C) 213 | (D) 133 |

79— वह मूल राशि बताइए जिस पर 5 प्रतिशत प्रतिवर्ष की साधारण ब्याज दर पर प्रतिदिन रू0 1.00 का ब्याज मिले ?

The principle which gives Rs. 1.00 interest per day at a rate of 5% simple interest per annum is -

- | | |
|-----------|----------|
| (A) 5000 | (B) 7300 |
| (C) 36500 | (D) 3650 |

80— 8 प्रतिशत साधारण ब्याज पर एक राशि कितने समय में दोगुनी होगी ?

In how much time, at 8% simple interest a sum becomes its two times -

(A) 11 वर्ष / years

(B) 5 वर्ष / years

(C) 9 वर्ष / years

(D) 12.5 वर्ष / years

81— वार्षिक चक्रवृद्धि से गणना करते हुए 10 प्रतिशत प्रति वर्ष वार्षिक चक्रवृद्धि ब्याज की दर से 2,000 रुपये से कितने वर्षों में 662 रुपये मिलेंगे ?

In how many years will Rs. 2,000 yield Rs. 662 as compound interest at 10% per annum compounded annually ?

(A) 3

(B) 2

(C) 4

(D) 3

82— वार्षिक 10 प्रतिशत की चक्रवृद्धि ब्याज की दर से 3 वर्षों बाद मिलने वाला मिश्रधन रू0 10,648 था। मूलधन रूप्यों में क्या था ?

The amount received at 10% per annum compound interest after 3 years is Rs. 10,648. What was the principal in Rs. ?

(A) 9000

(B) 8000

(C) 8500

(D) 7500

83— एक हॉल की लम्बाई 40 मीटर है और इसका क्षेत्रफल 1000 वर्ग मीटर है। हॉल की चौड़ाई ज्ञात कीजिए।

The length of a hall is 40 m and its area is 1000 sq. m. Find the breadth of the hall.

(A) 250 मी /m

(B) 2.5 मी /m

(C) 25 मी /m

(D) 40 मी /m

84— एक कमरा 12 मीटर लम्बा और 10 मीटर चौड़ा है। यदि 1 वर्ग मीटर कालीन कीमत रुपये 25 है तो इसके फर्श पर कालीन बिछाने की लागत ज्ञात कीजिए।

A room is 12m long and 10m broad. Find the cost of carpeting its floor if 1sq.m of carpet costs Rs. 25.

(A) 30000

(B) 3000

(C) 3100

(D) 3200

85- 36 सेमी भुजा वाले एक वर्ग का परिमाप मीटर में ज्ञात कीजिए।

Find the perimeter (in m) of a square of side 36 cm.

- (A) 144 मी /m (B) 14.4 मी /m
(C) 114 मी /m (D) इनमें से कोई नहीं / None of the these

86- एक वर्गाकार पार्क का क्षेत्रफल ज्ञात कीजिए जिसका परिमाप 320 मीटर है।

Find the area of a square park whose perimeter is 320 m.

- (A) 6600 वर्ग मी /m² (B) 6800 वर्ग मी /m²
(C) 6400 वर्ग मी /m² (D) इनमें से कोई नहीं / None of the these

87- यदि किसी वर्ग की भुजा दोगुनी कर दी जाए तो उसके क्षेत्रफल पर क्या प्रभाव पड़ेगा ?

What happens to the area of a square if its side is doubled ?

- (A) क्षेत्रफल आधा हो जायेगा। (B) क्षेत्रफल दो गुणा हो जायेगा।
Area becomes half Area becomes double
(C) क्षेत्रफल तीन गुणा हो जायेगा। (D) इनमें से कोई नहीं /
Area becomes thrice None of the these

88- क्रमशः 96 सेमी और 39 सेमी लम्बाई और चौड़ाई वाले एक आयताकार क्षेत्र में फिट होने के लिए 12 सेमी लम्बाई और 6 सेमी चौड़ाई वाली कितनी टाइलों की आवश्यकता होगी ?

How many tiles of length 12 cm and breadth 6 cm will be needed to fit in a rectangular area of length and breadth 96 cm and 39 cm respectively.

- (A) 48 (B) 52
(C) 54 (D) 56

- 89— 50 सेमी भुजा वाली वर्गाकार टाइलों की संख्या ज्ञात कीजिए, जो 4 मीटर लम्बे और 3 मीटर चौड़े कमरे के फर्श को ढकने के लिए आवश्यक होंगी।

Find the number of square tiles each of side 50 cm that will be required to cover the floor of a room which is 4m long and 3m wide.

- (A) 48 (B) 52
(C) 50 (D) 56

- 90— एक वर्गाकार पार्क का क्षेत्रफल एक आयताकार पार्क के समान होता है। यदि वर्गाकार भाग की भुजा 60 मीटर है और आयताकार पार्क की लम्बाई 90 मीटर है, तो आयताकार पार्क की चौड़ाई ज्ञात कीजिए।

The area of a square park is the same as that of a rectangular park. If the side of the square part is 60 m and the length of the rectangular park is 90 m, find the breadth of the rectangular park.

- (A) 38 (B) 42
(C) 44 (D) 40

- 91— भूमि के एक आयताकार भूखंड की लम्बाई उसकी चौड़ाई से दोगुनी है। यदि भूखंड की परिधि 360 मीटर है, तो इसका क्षेत्रफल ज्ञात करें।

The length of a rectangular plot of land is twice its breadth. If the perimeter of the plot is 360 m, find its area.

- (A) 7200 वर्ग मी /m² (B) 7100 वर्ग मी /m²
(C) 7400 वर्ग मी /m² (D) 7600 वर्ग मी /m²

- 92— 14 मी 50 सेमी लम्बे और 6 मी 80 सेमी चौड़े आयत का क्षेत्रफल ज्ञात करें।

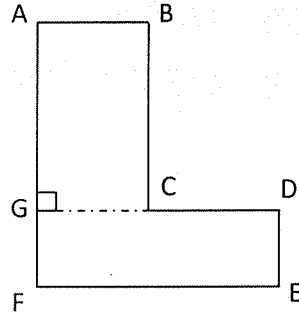
Find the area of a rectangle 14m 50 cm long and 6m 80 cm wide.

- (A) 98.8 वर्ग मी /m² (B) 98.6 वर्ग मी /m²
(C) 98.4 वर्ग मी /m² (D) इनमें से कोई नहीं / None of the these

93— निम्न आकृति को आयतों में विभाजित करके उसका क्षेत्रफल ज्ञात कीजिए, जहाँ—

Find the area of the following figure by splitting it into rectangles, where –

AB = 3.5 cm, BC = 8 cm, DE = 2 cm, EF = 9 cm and AF = 10 cm



(A) 46 वर्ग सेमी /m²

(B) 48 वर्ग सेमी /m²

(C) 40 वर्ग सेमी /m²

(D) 44 वर्ग सेमी /m²

94— एक घन के एक फलक का परिमाण 20 सेमी है। इसका आयतन कितना होगा ?

The perimeter of one face of a cube is 20 cm. Its volume will be

(A) 225 सेमी³ /cm³

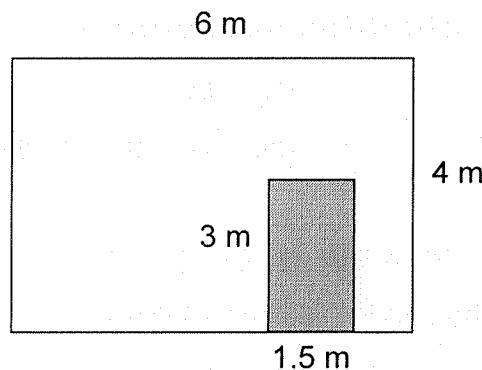
(B) 100 सेमी³ /cm³

(C) 125 सेमी³ /cm³

(D) इनमें से कोई नहीं / None of the these

95— एक दीवार की लम्बाई 6 मीटर है और उसकी चौड़ाई 4 मीटर है। दीवार में 3 मीटर उंचा और 1.5 मीटर चौड़ा एक दरवाजा लगा हुआ है। यदि दीवार की सफेदी की दर रुपये 30 प्रति वर्गमीटर है, तो दीवार की सफेदी की लागत ज्ञात कीजिए।

The length of a wall is 6 m and its height is 4 m. There is a door of height 3 m and breadth 1.5 m fitted in the wall. Find the cost of whitewashing the wall, if the rate of whitewashing the wall is Rs.30 per sq. m.



(A) ₹0 / Rs. 685

(B) ₹0 / Rs. 595

(C) ₹0 / Rs. 575

(D) इनमें से कोई नहीं / None of the these

96— उस वृत्त की त्रिज्या क्या है, जिसकी परिधि 3.14 मीटर है। ($\pi = 3.14$)

What is the radius of a circle that has a circumference of 3.14 meters? ($\pi = 3.14$)

(A) 1 मी /m

(B) 1.5 मी /m

(C) 0.5 मी /m

(D) इनमें से कोई नहीं / None of the these

97— $3 + 2(8 - 3)$ का मान ज्ञात कीजिए।

Find the value of $3 + 2(8 - 3)$.

(A) 25

(B) 13

(C) 15

(D) इनमें से कोई नहीं / None of the these

98— A, B से 3 वर्ष बड़ा है और C से 3 वर्ष छोटा है, जबकि B और D जुड़वां हैं। C, D से कितने वर्ष बड़ा है ?

A is 3 years older to B and 3 years younger to C, while B and D are twins. How many years older is C than D?

(A) 6

(B) 9

(C) 3

(D) 12

99— एक किसान ने अपने वर्गाकार भूखण्ड के चारों ओर बाड़ लगा दी। उन्होंने वर्ग के प्रत्येक तरफ 27 बाड़ खंभों का उपयोग किया। उसे कुल मिलाकर कितने खंभों की आवश्यकता थी ?

A farmer built a fence around his square plot. He used 27 fence poles on each side of the square. How many poles did he need altogether?

(A) 84

(B) 54

(C) 104

(D) इनमें से कोई नहीं / None of the these

100— वह संख्या ज्ञात कीजिए जिसे स्वयं के साथ 13 बार जोड़ने पर 112 प्राप्त होता है।

Find the number which when added to itself 13 times, gives 112.

(A) 6

(B) 9

(C) 8



(D) 7

रफ़ कार्य हेतु
For Rough Use

रफ कार्य हेतु
For Rough Use

**Answer Key for Departmental Examination for Assistant Accountant Paper-II held
on 13.08.2023**

Question No.	Answer	Question No.	Answer	Question No.	Answer
01	C	35	B	69	A
02	A	36	A	70	C
03	A	37	D	71	B
04	C	38	C	72	A
05	C	39	A	73	B
06	B	40	A	74	D
07	C	41	C	75	A
08	B	42	C	76	A
09	A	43	B	77	C
10	C	44	D	78	A
11	D	45	B	79	B
12	A	46	D	80	D
13	A	47	C	81	D
14	A	48	D	82	B
15	C	49	A	83	C
16	A	50	B	84	B
17	C	51	B	85	D
18	B	52	C	86	C
19	C	53	C	87	D
20	D	54	A	88	B
21	D	55	B	89	A
22	A	56	D	90	D
23	C	57	A	91	A
24	A	58	C	92	B
25	C	59	A	93	A
26	B	60	B	94	C
27	B	61	C	95	D
28	A	62	B	96	C
29	B	63	D	97	B
30	A	64	A	98	A
31	B	65	D	99	C
32	C	66	C	100	C
33	A	67	B		
34	C	68	D		





सूचना

सहायक लेखाकार के पदों पर पदोन्नति हेतु आयोजित विभागीय परीक्षा की उत्तर कुंजी के सम्बन्ध में दिशा-निर्देश

अभ्यर्थियों को यह सूचित किया जाता है कि यदि उत्तर कुंजियों में दिये गये उत्तरों के सापेक्ष प्रश्न-पत्रों के किसी प्रश्न पर किसी अभ्यर्थी को कोई आपत्ति दर्ज करवानी हो तो वह विलम्बतः दिनांक 14.08.2023 के पूर्वाह्न 11:00 बजे तक अपनी आपत्ति साक्ष्य सहित मानव संसाधन एवं प्रशासनिक विभाग की ई-मेल hr@ptcul.org पर प्रेषित कर सकते हैं।

उपरोक्त तिथि के उपरान्त प्राप्त होने वाली आपत्तियों का संज्ञान कदाचित नहीं लिया जायेगा।



(विवेकानन्द)

उपमुख्य कार्मिक अधिकारी